



3けたの数4

● ぼうや紙のたばを
数字であらわそう




日にち： 月 日

名まえ _____

・ ぼうや 色紙の 数を、数字で 書きましよう。(うすい字はなぞりましよう。)

①



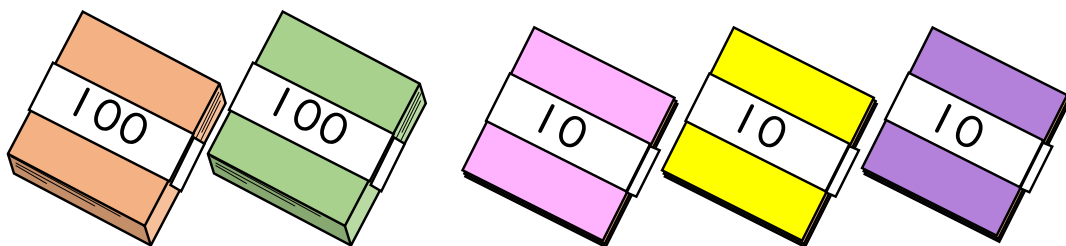
百	十	一
3	1	5

それぞれの たばの 数を
表に 入れてみよう!



(315 本)

②



百	十	一
2	3	0

(まい)



3けたの数4

● ぼうや紙のたばを
数字であらわそう




日にち： 月 日

名まえ _____

・ ぼうや色紙の数を、数字で書きましょう。(うすい字はなぞりましょう。)

①



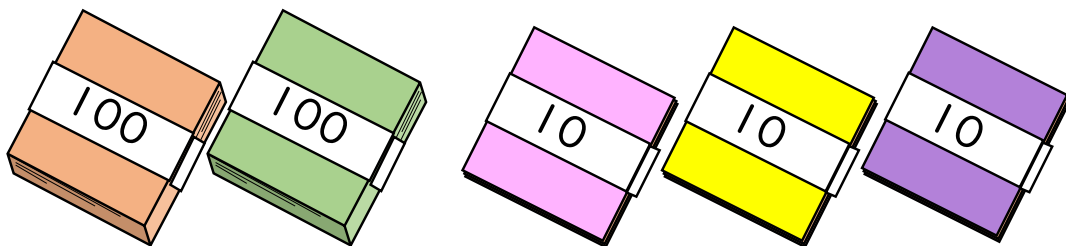
百	十	一
3	1	5

それぞれのたばの数を
表に入れてみよう!



{ 315 本 }

②



百	十	一
2	3	0

{ 230 まい }