



分数3


● もとの大きさの○分の一をさがす



日にち： 月 日

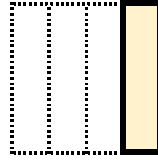
名まえ

1 もとの大きさの $\frac{1}{2}$ はどれですか。(うすい字はなぞりましょう。)

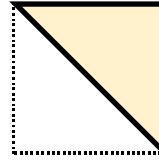


もとの大きさ

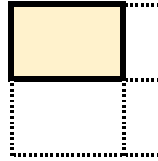
ア



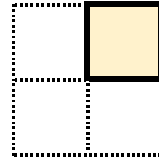
イ



ウ




エ



答え：

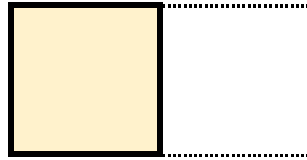
イ

2 もとの大きさの $\frac{1}{4}$ はどれですか。

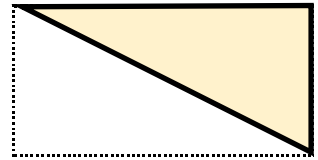


もとの大きさ

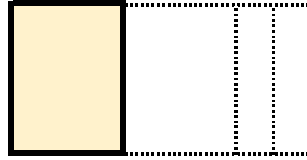
ア



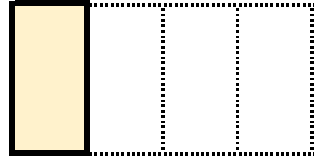
イ



ウ



エ



答え：



分数3


● もとの大きさの○分の一をさがす



日にち： 月 日

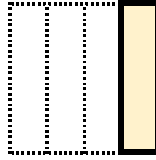
名まえ

1 もとの大きさの $\frac{1}{2}$ はどれですか。(うすい字はなぞりましょう。)




もとの大きさ

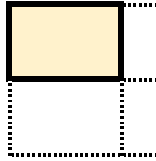
ア



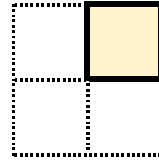
イ



ウ




エ



答え：


イ

2 もとの大きさの $\frac{1}{4}$ はどれですか。

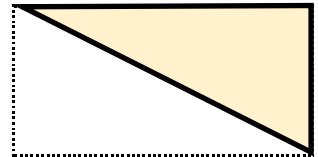


もとの大きさ

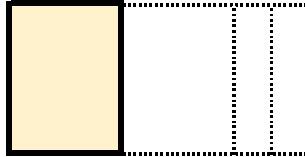
ア



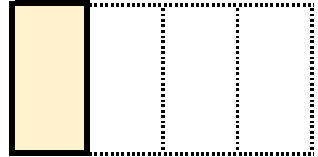
イ



ウ



エ



答え：

エ

