



分数6

● もとの大きさはいくつ分？



日にち： 月 日

名まえ


・ つぎのもんだいに答えましょう。(うすい字はなぞりましょう。)

① もとの長さの $\frac{1}{3}$ をいくつあつめると、もとの長さになりますか。

もとの長さの $\frac{1}{3}$




もとの長さ



答え： 3つ

② もとの長さの $\frac{1}{4}$ をいくつあつめると、もとの長さになりますか。

もとの長さの $\frac{1}{4}$



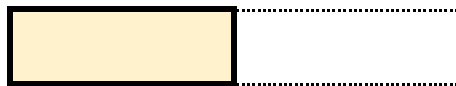
もとの長さ



答え： 4つ

③ もとの長さの $\frac{1}{2}$ をいくつあつめると、もとの長さになりますか。

もとの長さの $\frac{1}{2}$



もとの長さ



答え：





分数6

● もとの大きさはいくつ分？



日にち： 月 日

名まえ _____

・ つぎのもんだいに答えましょう。(うすい字はなぞりましょう。)

① もとの長さの $\frac{1}{3}$ をいくつあつめると、もとの長さになりますか。

もとの長さの $\frac{1}{3}$




もとの長さ



答え： 3つ

② もとの長さの $\frac{1}{4}$ をいくつあつめると、もとの長さになりますか。

もとの長さの $\frac{1}{4}$



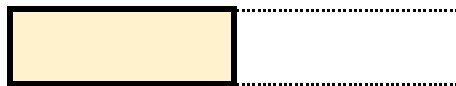
もとの長さ



答え： 4つ

③ もとの長さの $\frac{1}{2}$ をいくつあつめると、もとの長さになりますか。

もとの長さの $\frac{1}{2}$



もとの長さ



答え： 2つ

