



長さのたんい 7

● ものさしではかる (mm)

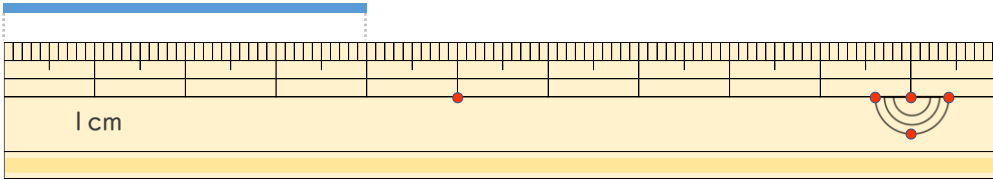


日にち： 月 日

名まえ _____

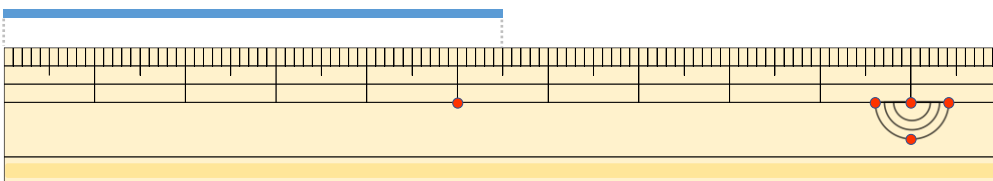
・線の長さ（せんなが）はどれだけですか。（うすい字（じ）はなぞりましょう。）

①



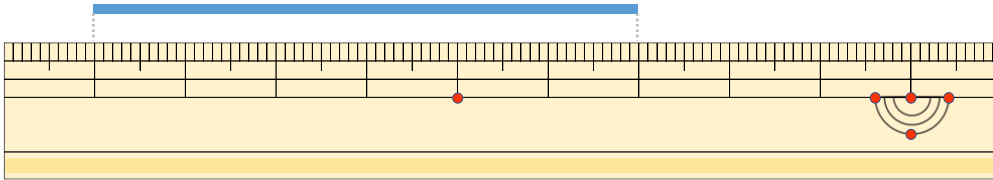
こた 答え（ 4 cm ）

②



こた 答え（ 5 cm 5 mm ）

③



こた 答え（ cm ）



長さのたんい 7

● ものさしではかる (mm)

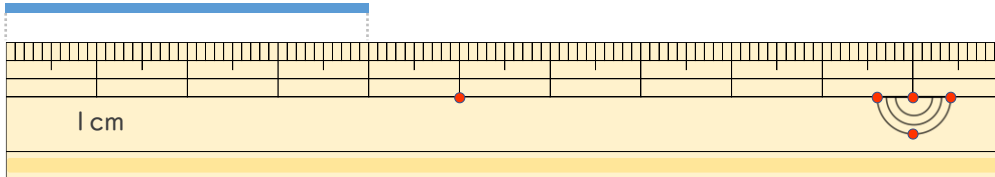


日にち： 月 日

名まえ _____

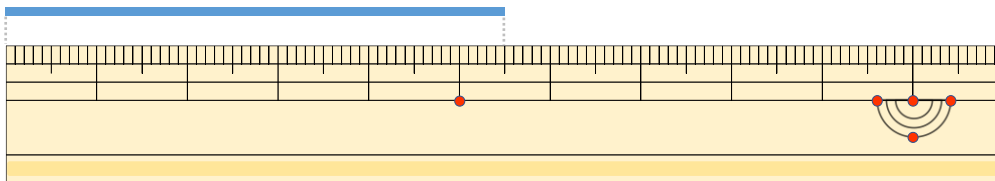
・線の長さ（せんなが）はどれだけですか。（うすい字（じ）はなぞりましょう。）

①



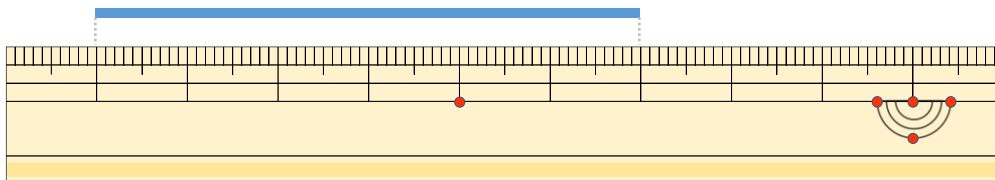
こた 答え (4 cm)

②



こた 答え (5 cm 5 mm)

③



こた 答え (6 cm)

