



長さのたんい 7

● ものさしではかる (mm)

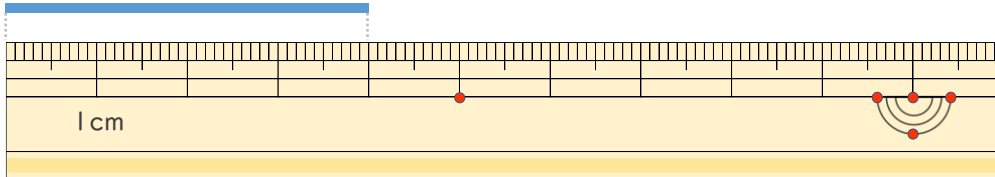


日にち： 月 日

名まえ _____

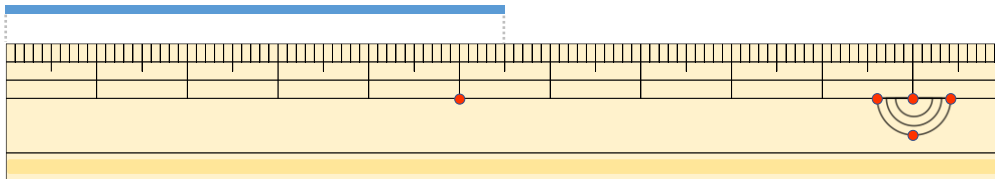
・線の長さはどれだけですか。(うすい字はなぞりましょう。)

①



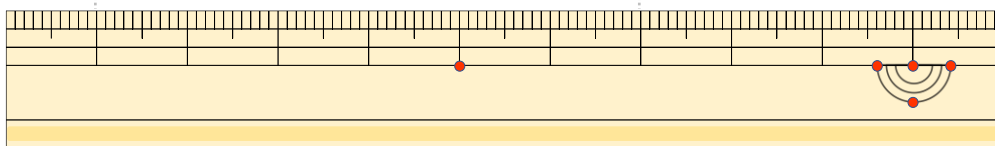
こた 答え (4 cm)

②



こた 答え (5 cm 5 mm)

③



こた 答え (cm)





長さのたんい 7

● ものさしではかる (mm)

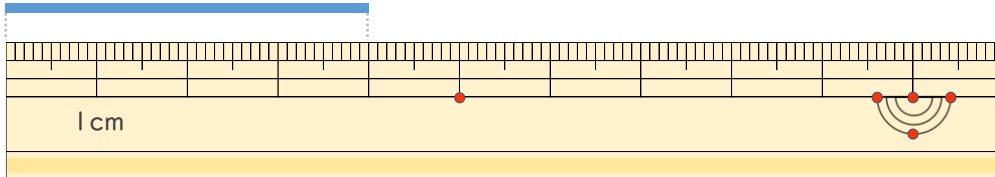


日にち： 月 日

名まえ _____

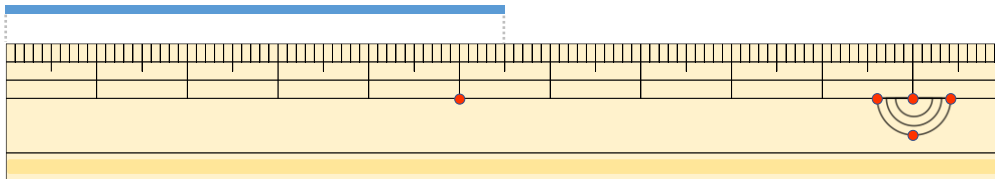
・線の長さはどれだけですか。(うすい字はなぞりましょう。)

①



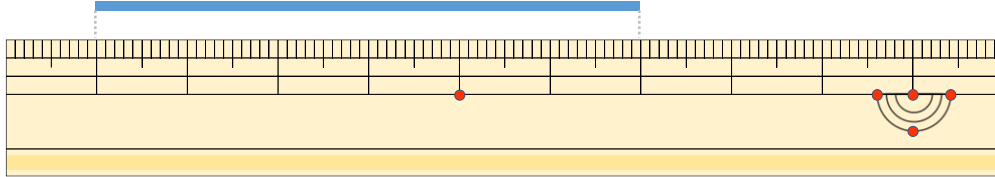
こた 答え (4 cm)

②



こた 答え (5 cm 5 mm)

③



こた 答え (6 cm)

