



# 長さのたんい 3

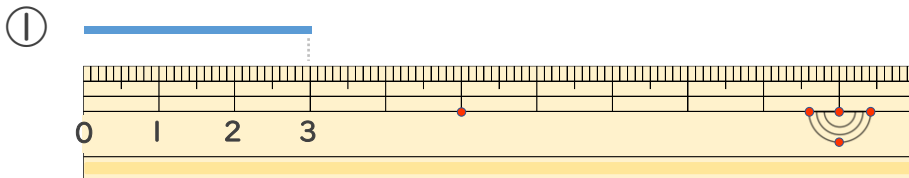
● 物のさしの見かた (cm)



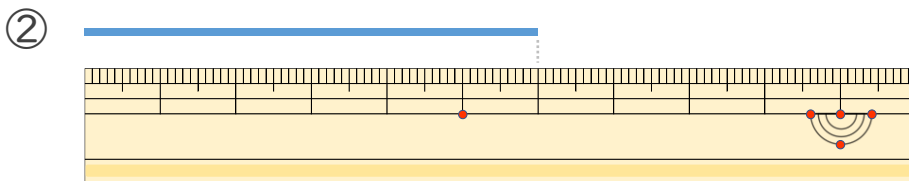
日にち：            月            日

名まえ \_\_\_\_\_

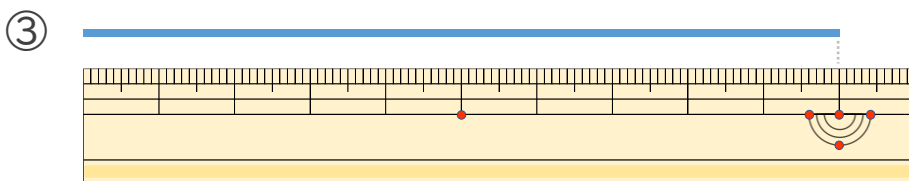
・ 線の <sup>せん</sup>長さは <sup>なが</sup>何 <sup>なん</sup>cm でしょう。



こた 答え ( 3 cm )



こた 答え ( 6 cm )



こた 答え ( 10 cm )





# 長さのたんい 3

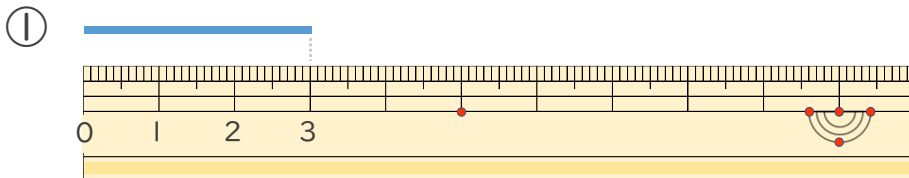
● 物のさしの見かた (cm)



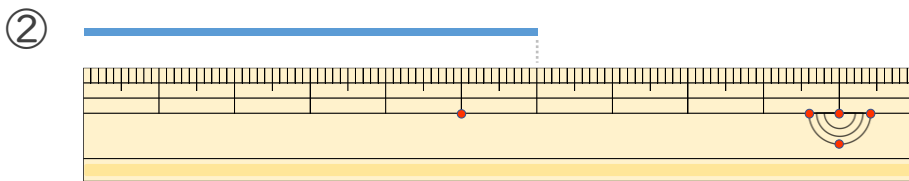
日にち：            月            日

名まえ \_\_\_\_\_

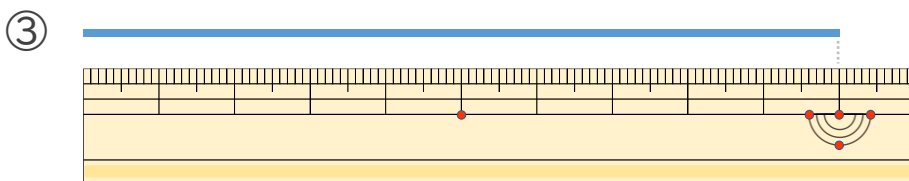
・ 線の <sup>せん</sup>長さは <sup>なが</sup>何 <sup>なん</sup>cm でしょう。



こた 答え ( 3 cm )



こた 答え ( 6 cm )



こた 答え ( 10 cm )

