



長さのたんい 3

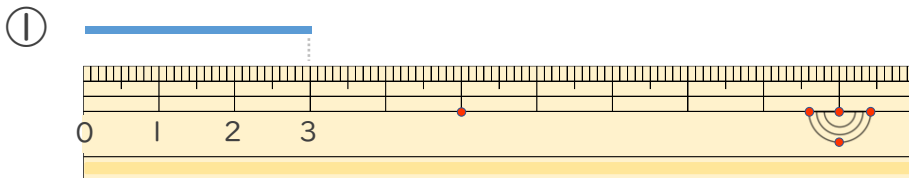
● 物のさしの見かた (cm)



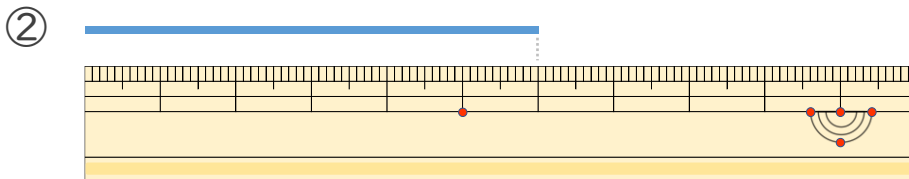
日にち： 月 日

名まえ _____

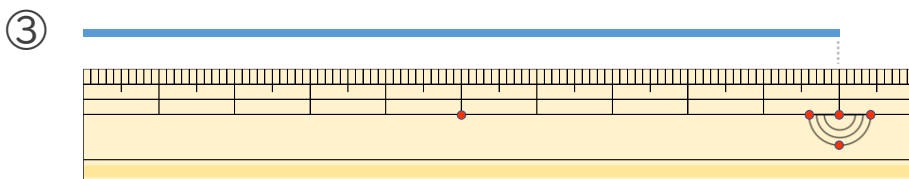
・線の長さは何cmでしょう。(うすい字はなぞりましょう。)



こた 答え (3 cm)



こた 答え (6 cm)



こた 答え (10 cm)





長さのたんい 3

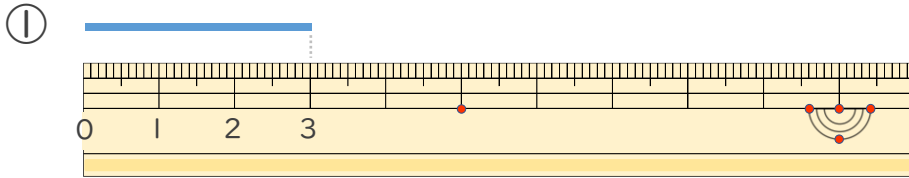
● 物のさしの見かた (cm)



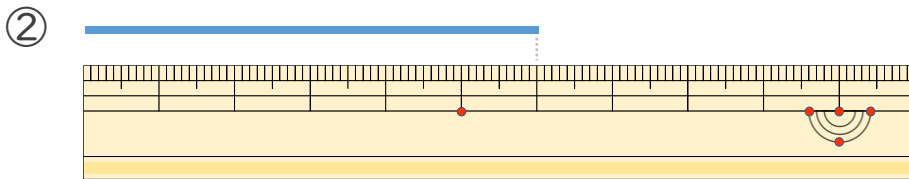
日にち： 月 日

名まえ _____

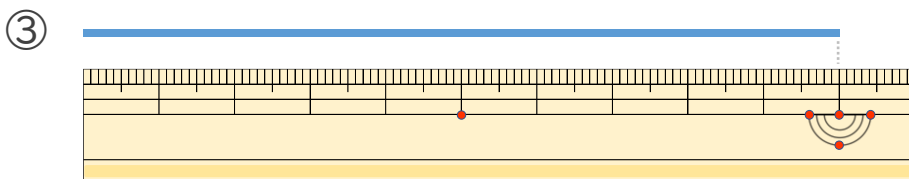
・線の長さは何cmでしょう。(うすい字はなぞりましょう。)



こたえ (3 cm)



こたえ (6 cm)



こたえ (10 cm)

