



はこの形 4

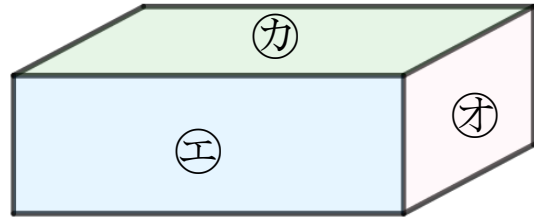
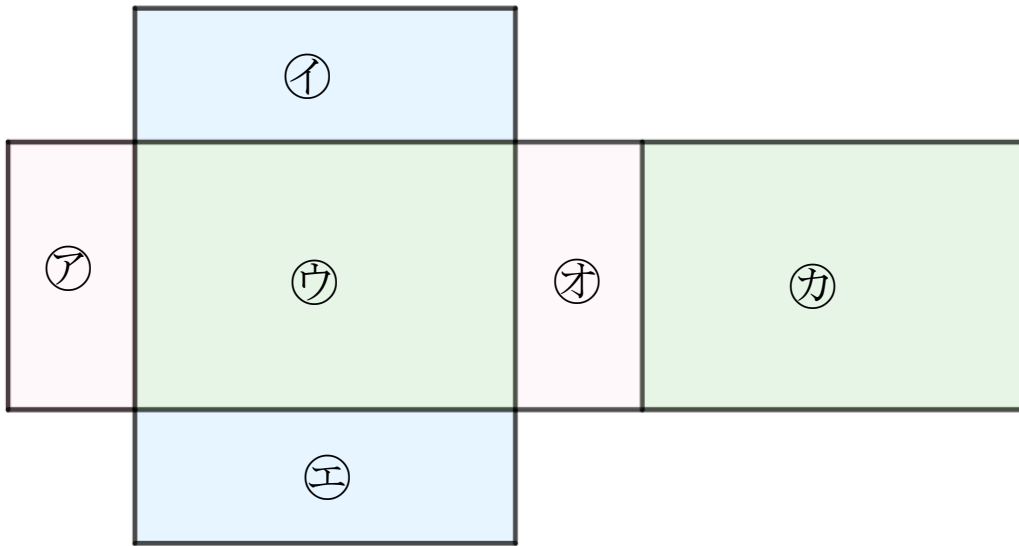
サイコロの向かい合う面



日にち： 月 日

名まえ _____

- ・ つぎの図ははこの形を切りひらいたものです。
組み立てたときにおかい合う面を3組さがして、
㊦～㊨で答えましょう。 (うすい字はしっかりなぞりましょう。)



答え： ㊦ と ㊨ , と , と



はこの形 4

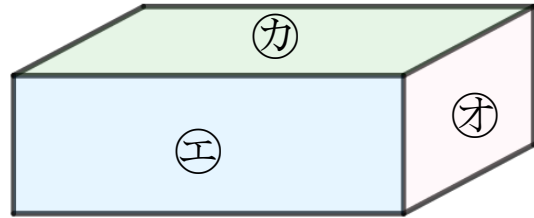
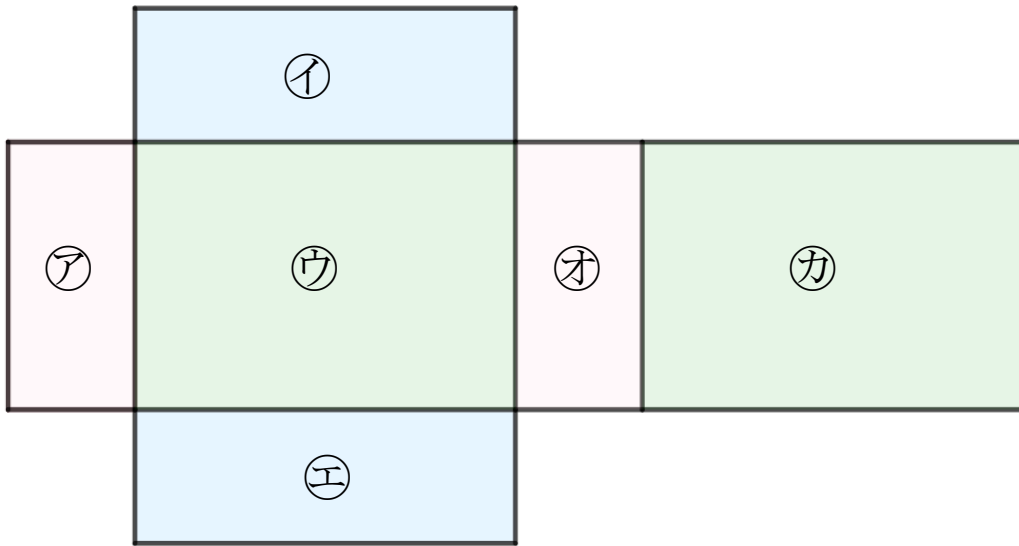
◎サイコロの向かい合う面



日にち： 月 日

名まえ _____

- ・ つぎの図ははこの形を切りひらいたものです。
組み立てたときにおかい合う面を3組さがして、
㊦～㊫で答えましょう。 (うすい字はしっかりなぞりましょう。)



答え： ㊦ と ㊫ , ㊩ と ㊨ , ㊧ と ㊬