



長さのたんい 2

● センチメートル



日にち： 月 日

名まえ _____

1 長さは 1 cm がいくつ分あるかであらわします。
cm の書き方を れんしゅうしましょう。

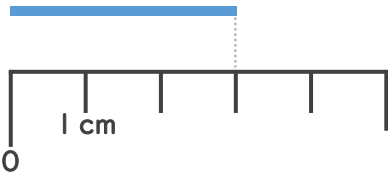


1 cm 1 cm

↑ なぞろう！

2 線の長さは何 cm でしょう。（うすい字はなぞりましょう。）

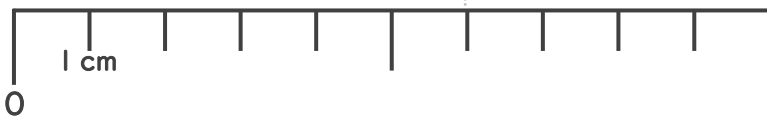
①



1 cm が 3 つ分あるね！

答え (3 cm)

②



答え (6 cm)





長さのたんい 2

● センチメートル



日にち： 月 日

名まえ _____

1 長さは 1 cm がいくつ分あるかであらわします。
cm の書き方を れんしゅうしましょう。

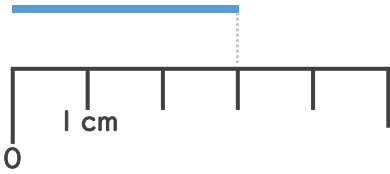


1 cm 1 cm 1 cm 1 cm 1 cm

↑ なぞろう!

2 線の長さは何 cm でしょう。(うすい字はなぞりましょう。)

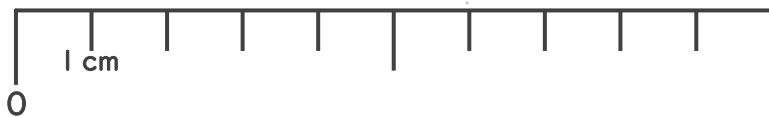
①



1 cm が 3 つ分あるね!

答え (3 cm)

②



答え (6 cm)

