



# ひき算のひっ算！

● タイルでかんがえる



日にち： 月 日

名まえ \_\_\_\_\_

- ・みかさんは47円もっています。15円のゼリーを買います。のこりはいくらですか。(うすい字はなぞりましょう。)

もっているお金

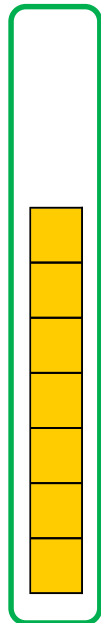
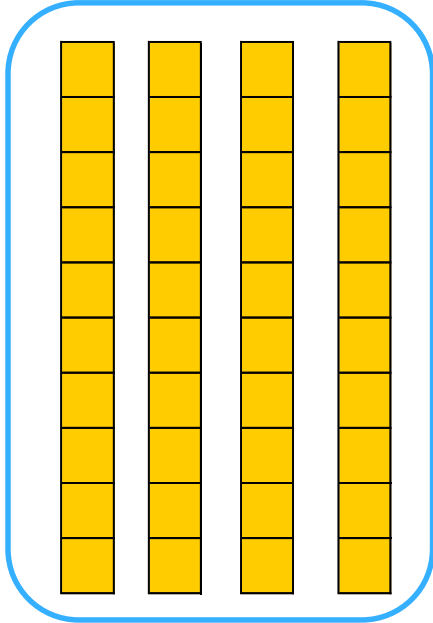
ゼリー

十のくらい

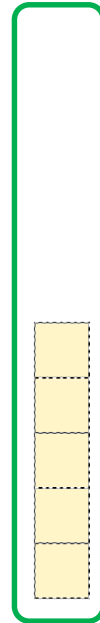
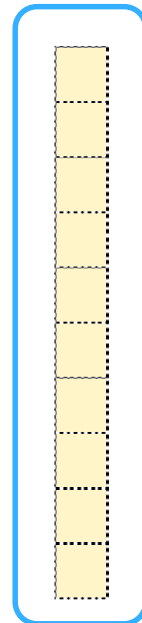
一のくらい

十のくらい

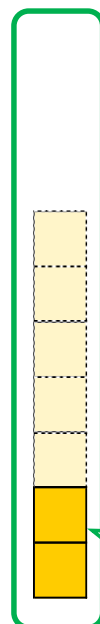
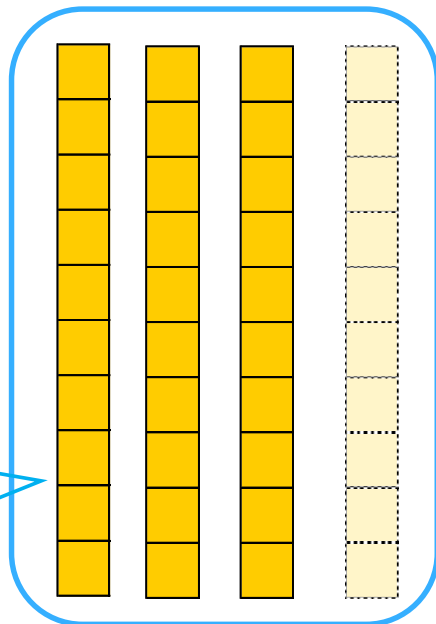
一のくらい



—



30



2

答え： 32円



# ひき算のひっ算！

● タイルでかんがえる



日にち： 月 日

名まえ \_\_\_\_\_

- ・みかさんは47円もっています。15円のゼリーを買います。のこりはいくらですか。(うすい字はなぞりましょう。)

もっているお金

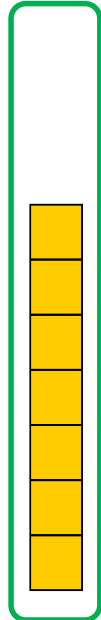
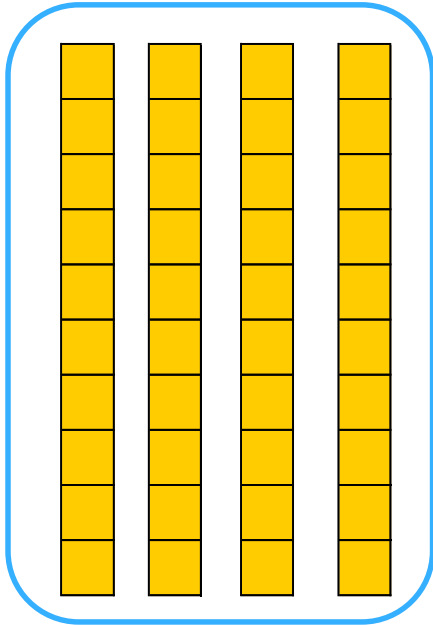
ゼリー

十のくらい

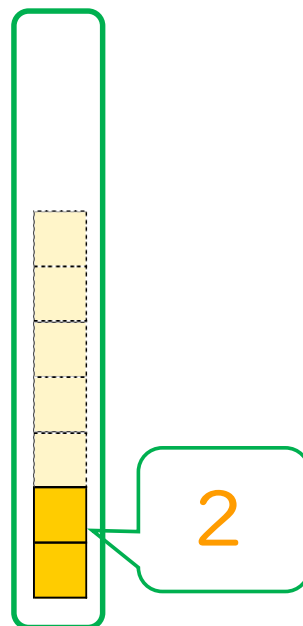
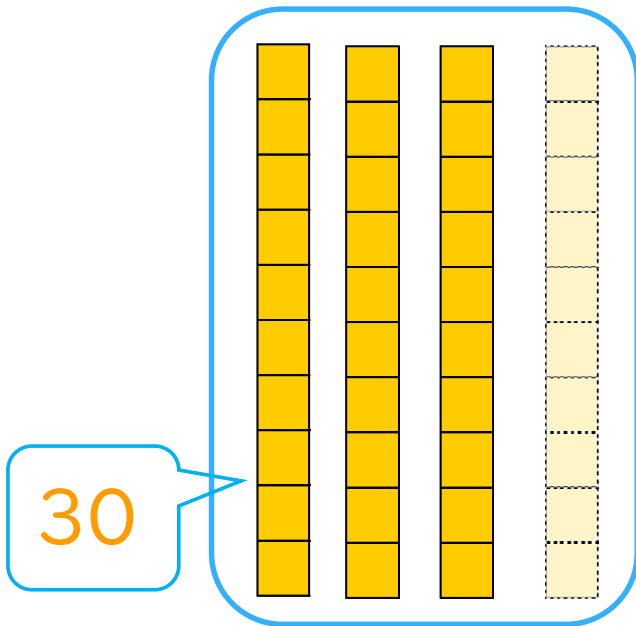
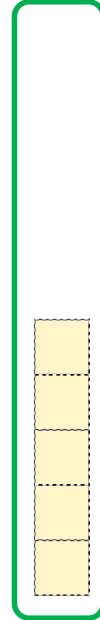
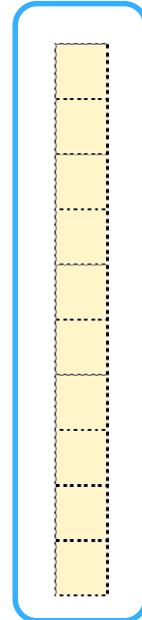
一のくらい

十のくらい

一のくらい



—



答え： 32円