



# ひき算のひっ算 I

◎ タイルでかんがえる



日にち： 月 日

名まえ \_\_\_\_\_

- ・みかさんは 49円 もっています。15円 の あめ を 買います。のこりは いくら ですか。(うすい字はなぞりましょう。)

もっている お金

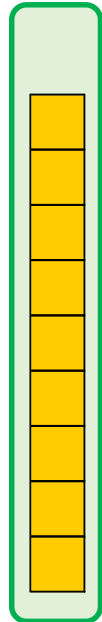
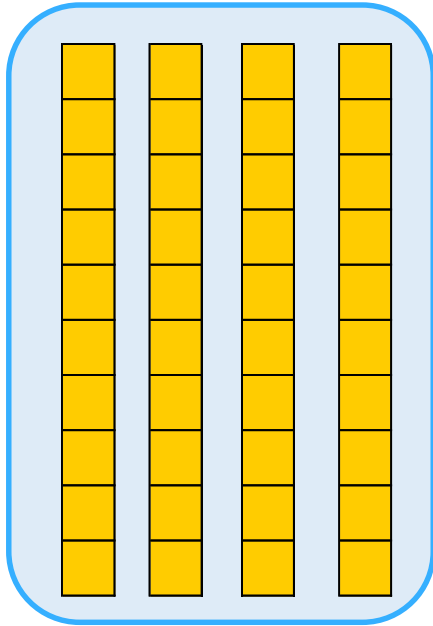
あめ

十のくらい

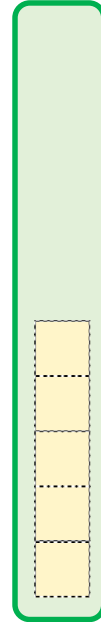
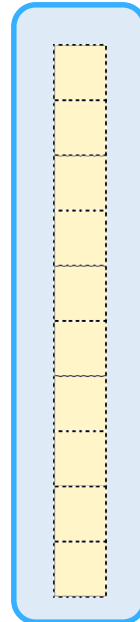
一のくらい

十のくらい

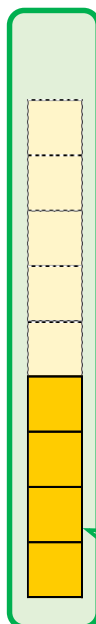
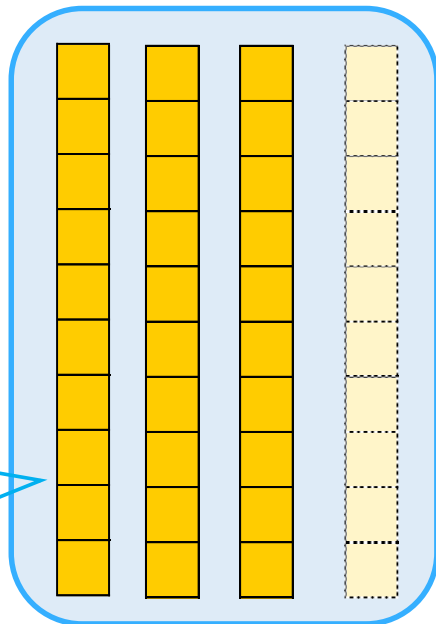
一のくらい



—



30



4

答え： 34円





# ひき算のひっ算 I

◎ タイルでかんがえる



日にち： 月 日

名まえ \_\_\_\_\_

- ・みかさんは 49円 もっています。15円 の あめ を 買います。のこりは いくら ですか。(うすい字はなぞりましょう。)

もっている お金

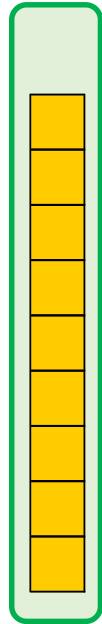
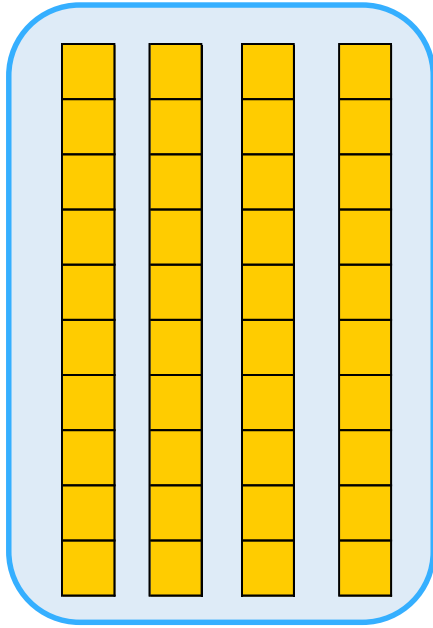
あめ

十のくらい

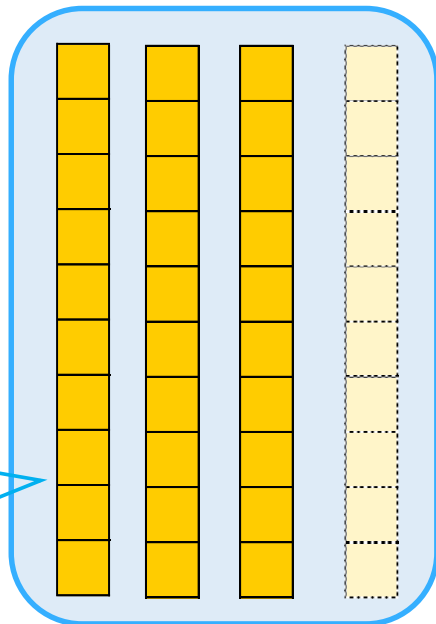
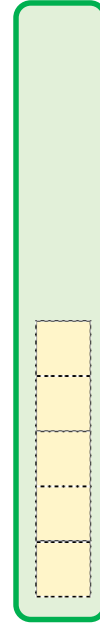
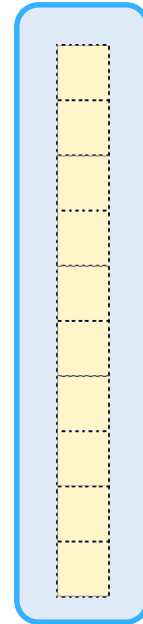
一のくらい

十のくらい

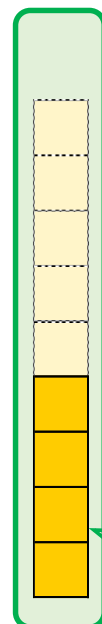
一のくらい



—



30



4

答え： 34円

