



# たし算のひっ算 6

● タイルで数える  
(くり上がりのじゅんぴ)

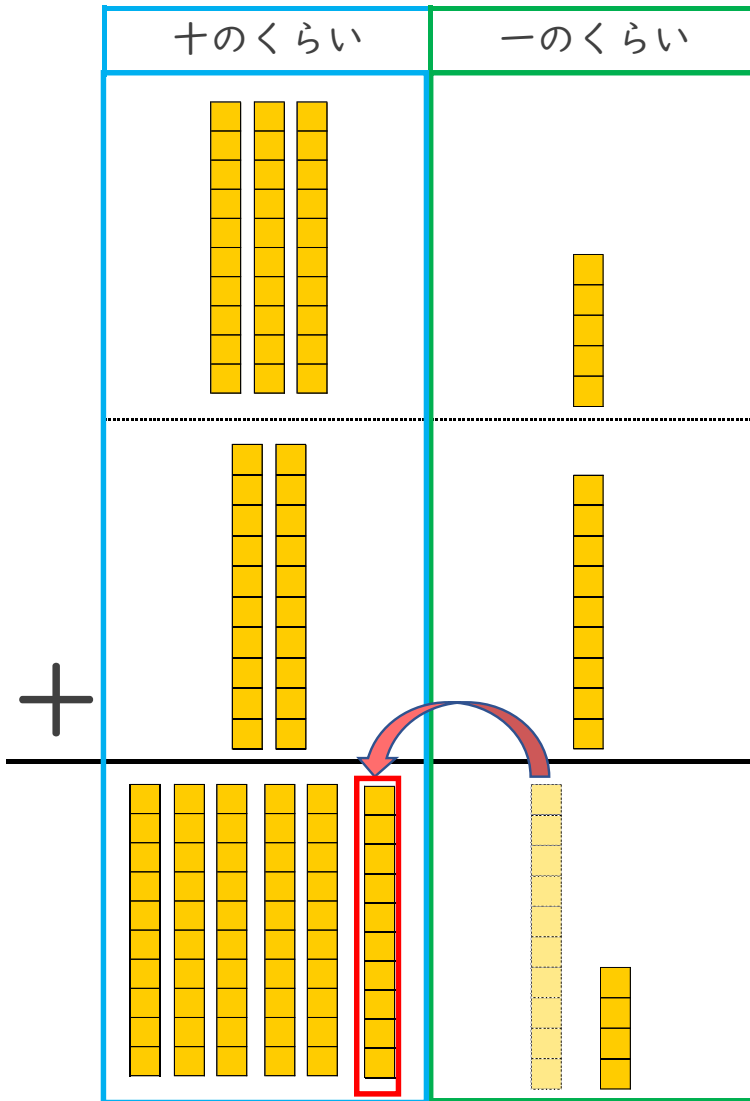


日にち： 月 日

名まえ \_\_\_\_\_

・ つぎの計算を ひっ算で しましょう。(うすい字はなぞりましょう。)

$$35 + 29$$



①一のくらいから計算

$$5 + 9 = 14$$

☆十のくらいに1くり上げる。

	1	
	3	5
+	2	9
	6	4

②十のくらいの計算

$$1 + 3 + 2 = 6$$

☆くり上げた1もたそう！

一のくらいの計算が10をこえるときは  
十のくらいに1くり上げるよ！





# たし算のひっ算 6

● タイルで数える  
(くり上がりのじゅんぴ)

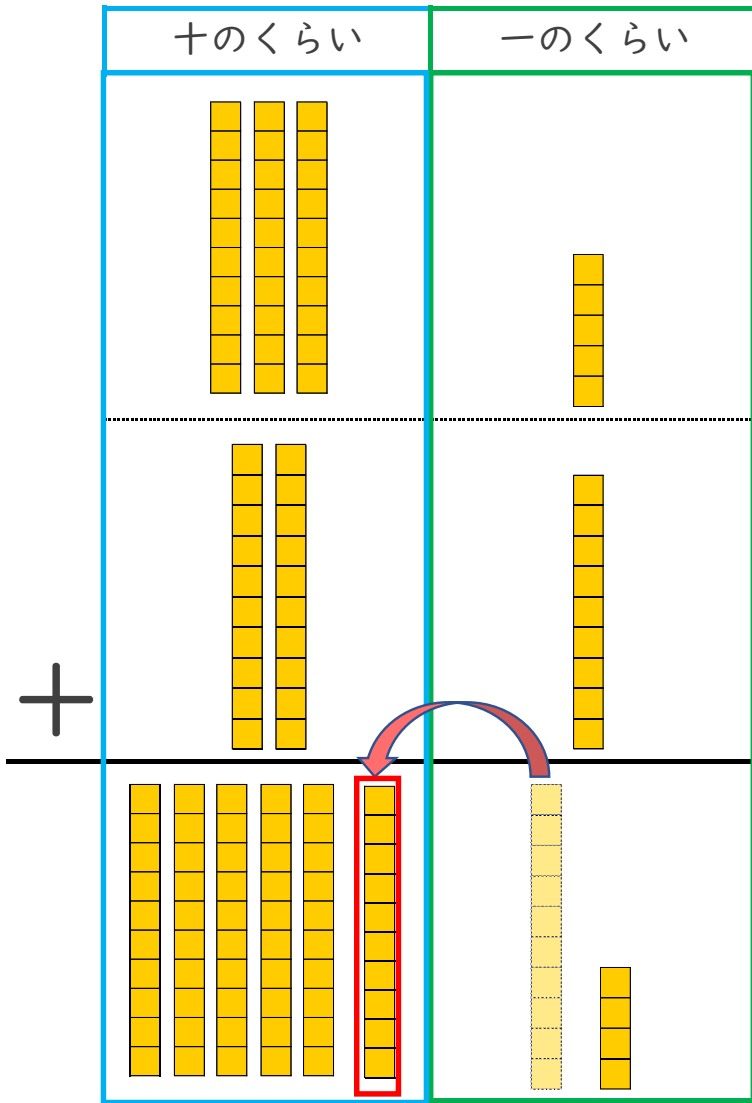


日にち： 月 日

名まえ \_\_\_\_\_

・ つぎの計算を ひっ算で しましょう。(うすい字はなぞりましょう。)

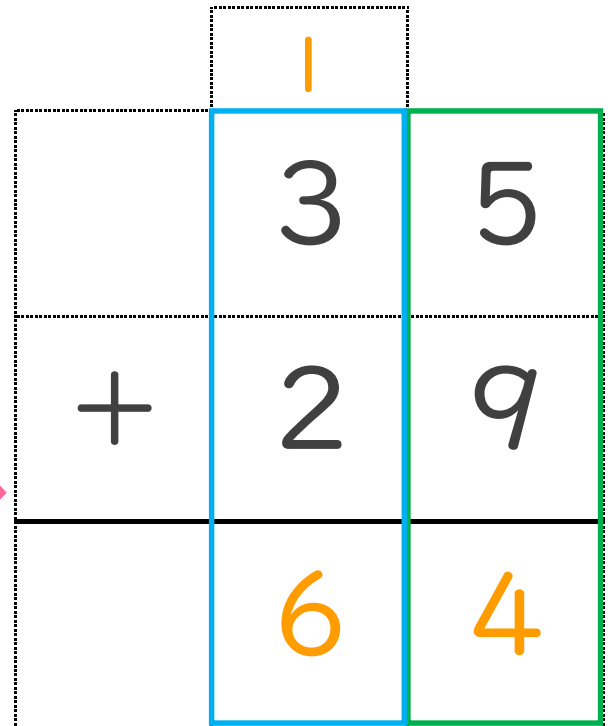
$$35 + 29$$



① 一のくらいから計算

$$5 + 9 = 14$$

☆ 十のくらいに 1 くり上げる。



② 十のくらいの計算

$$1 + 3 + 2 = 6$$

☆ くり上げた 1 も たそう！

一のくらいの計算が10をこえるときは  
十のくらいに1くり上げるよ！

