



## たし算のひっ算 6

● タイルで数える  
(くり上がりのじゅんび)

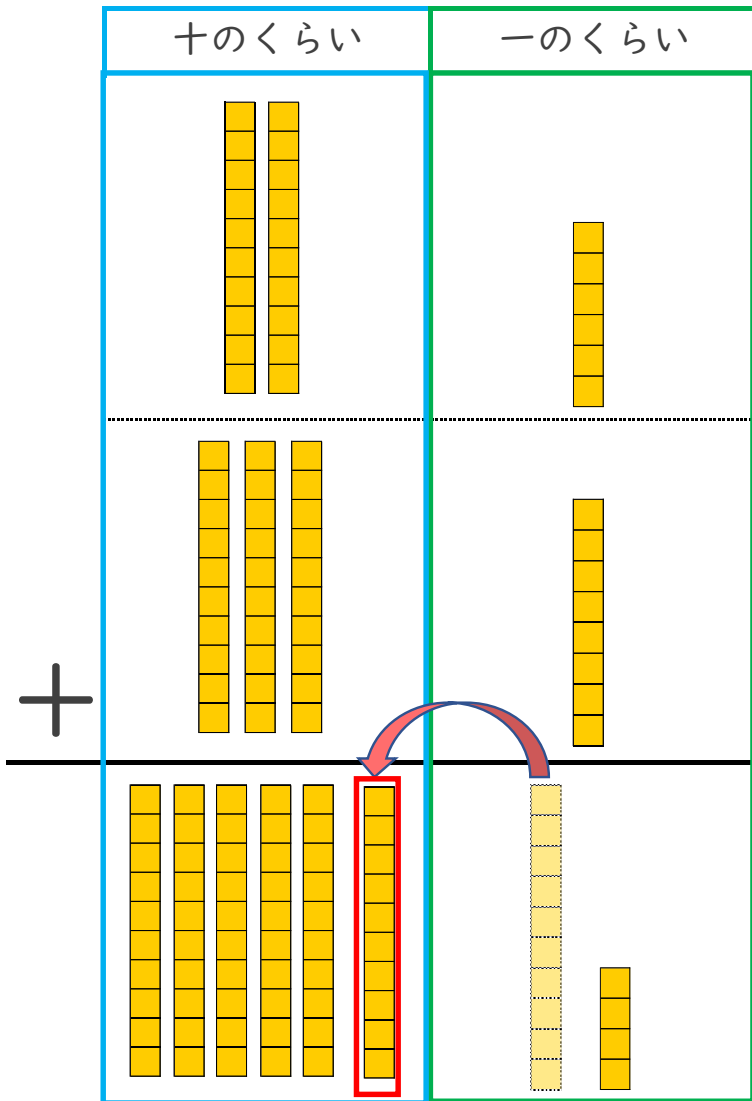


日にち： 月 日

名まえ \_\_\_\_\_

・ つぎの計算を ひっ算で しましょう。(うすい字はなぞりましょう。)

$$26 + 38$$



① 一のくらいから計算

$$6 + 8 = 14$$

☆ 十のくらいに 1 くり上げる。

	1	
	2	6
+	3	8
	6	4

② 十のくらいの計算

$$1 + 2 + 3 = 6$$

☆ くり上げた 1 も たそう！

一のくらいの計算が10をこえるときは  
十のくらいに 1 くり上げるよ！





# たし算のひっ算 6

● タイルで数える  
(くり上がりのじゅんび)

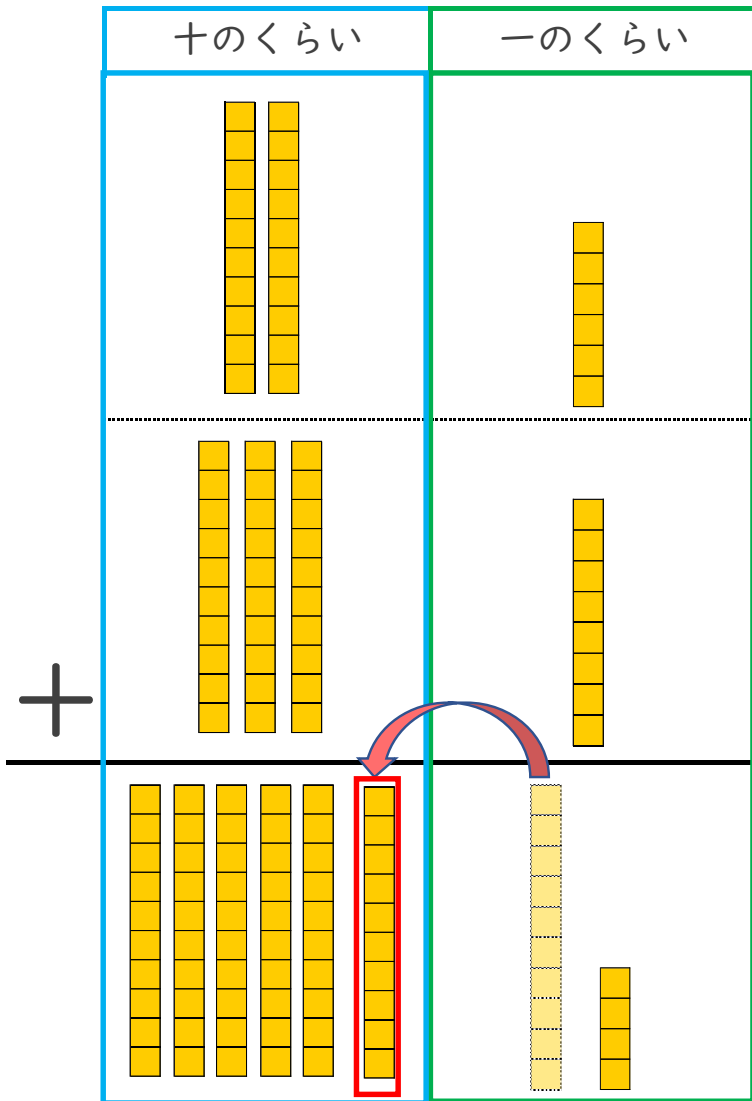


日にち： 月 日

名まえ \_\_\_\_\_

・ つぎの計算を ひっ算で しましょう。(うすい字はなぞりましょう。)

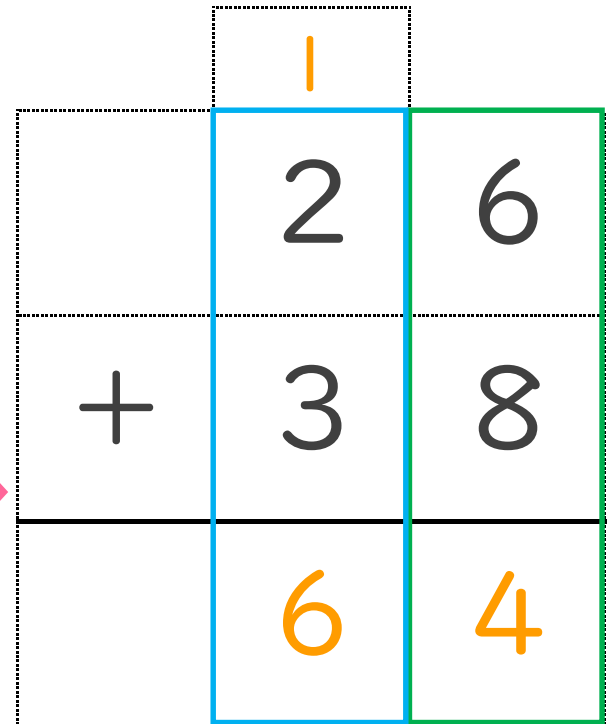
$$26 + 38$$



① 一のくらいから計算

$$6 + 8 = 14$$

☆ 十のくらいに 1 くり上げる。



② 十のくらいの計算

$$1 + 2 + 3 = 6$$

☆ くり上げた 1 も たそう！

一のくらいの計算が10をこえるときは  
十のくらいに1くり上げるよ！

