



長さのたんい 5

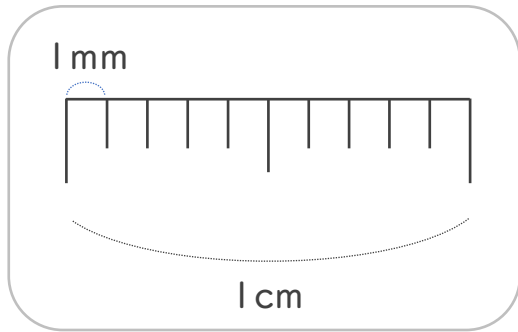
● ミリメートル



日にち： 月 日


名まえ _____

1 1cmを ^{おな} 同じ ^{なが} 長さに、10に ^わ 分けた ^{ぶん} 1つ分の ^{なが} 長さを 1mm(ミリメートル)と います。




mm (ミリメートル) の ^か 書き方 ^{かた} を れんしゅう しましょう。

1 mm 1 mm

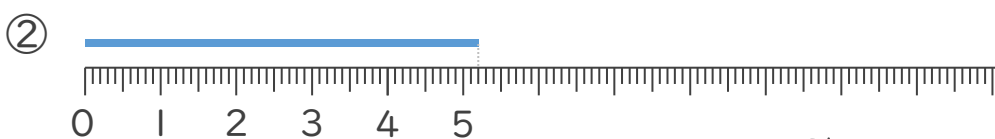
↑ なぞろう! 

2 ^{せん} 線の ^{なが} 長さは ^{なん} 何cm ^{なん} 何mm でしょう。(うすい ^じ 字はなぞり しましょう。)



1 cmが 3 こ分と、
1 mmが 5 こ分 あるよ

こた 答え (3 cm 5 mm)



こた 答え (5 cm 2 mm)





長さのたんい 5

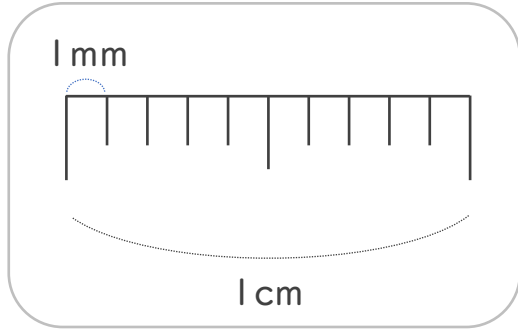
● ミリメートル



日にち： 月 日


名まえ _____

1 1cmを ^{おな} 同じ ^{なが} 長さに、10に ^わ 分けた ^{ぶん} 1つ分の ^{なが} 長さを
1mm(ミリメートル)と います。



mm (ミリメートル) の ^か 書き方 ^{かた} を れんしゅう しましょう。

1 mm 1 mm 1 mm 1 mm 1 mm

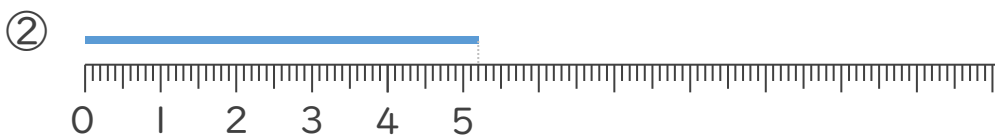
↑ なぞろう! 

2 ^{せん} 線の ^{なが} 長さは ^{なん} 何cm ^{なん} 何mm でしょう。(うすい字はなぞりましょう。)



1 cmが 3 こ分と、
1 mmが 5 こ分 あるよ

こた 答え (3 cm 5 mm)



こた 答え (5 cm 2 mm)

