



水のかさ4

● リットルとデシリットル



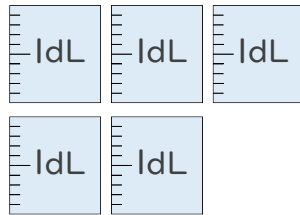
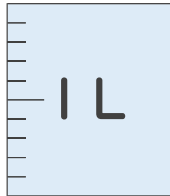
日にち： 月 日

名まえ _____

- 水のかさはどれだけですか。
それぞれのたんいであらわしましょう。

(うすい字はなぞりましょう。)

①



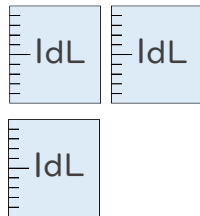
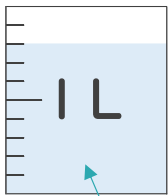
(1 L 5 dL)

(dL)

1 L = 10 dLだよ!



②



(1 L 1 dL)

(11 dL)

1目もり 1 dLだから

8 dL

いっぱいになっていないマスに
ちゅういしよう!





水のかさ4

● リットルとデシリットル



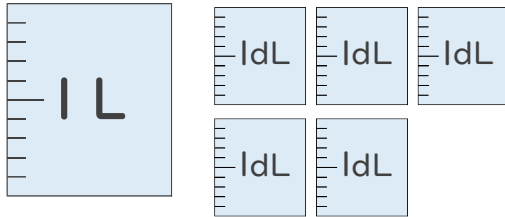
日にち： 月 日

名まえ _____

- 水のかさはどれだけですか。
それぞれのたんいであらわしましょう。

(うすい字はなぞりましょう。)

①



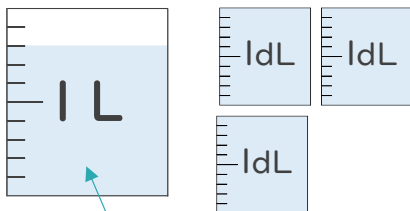
(1 L 5 dL)

(15 dL)

1 L = 10 dLだよ!



②



(1 L 1 dL)

(11 dL)

1 目もり 1 dLだから

8 dL

いっぱいになっていないマスに
ちゅういしよう!

