



水のかさ 3

リットル



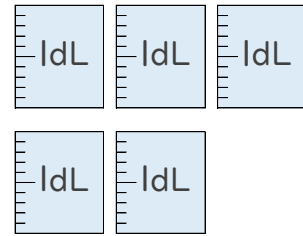
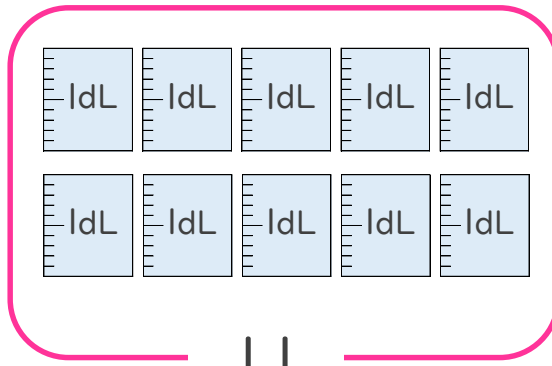
日にち： 月 日

名まえ _____

- 1 大きな かさを あらわすときは、リットルという たんいをつかいます。
リットルは L と書き、1L は 10dL です。
L の書き方を れんしゅうしましょう。(うすい字はなぞりましょう。)

IL IL

- 2 つぎの ペットボトルに入る 水のかさを しらべましょう。
(うすい字はなぞりましょう。)



- ① ペットボトルに入る 水のかさは、何dLですか。

答え： 15dL

- ② ペットボトルに入る 水のかさは、何L何dLですか。

1L = 10dL だよ！



答え： 1L 5dL



水のかさ 3

リットル



日にち： 月 日

名まえ _____

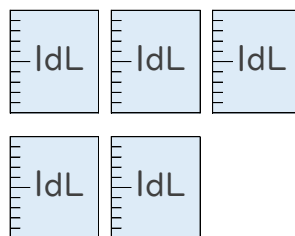
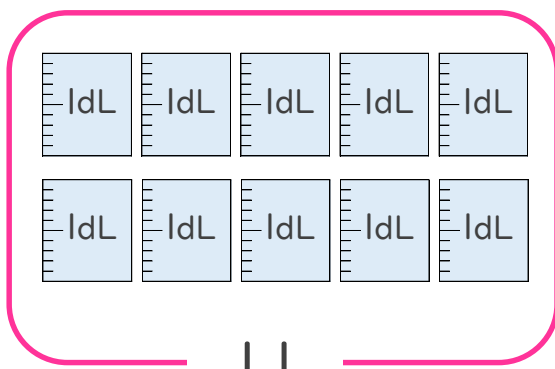
1 大きな かさを あらわすときは、リットルという たんいをつかいます。
リットルは L と書き、1L は 10dL です。

L の書き方を れんしゅうしましょう。(うすい字はなぞりましょう。)



2 つぎの ペットボトルに入る 水のかさを しらべましょう。

(うすい字はなぞりましょう。)



① ペットボトルに入る 水のかさは、何dLですか。

答え： 15dL

② ペットボトルに入る 水のかさは、何L何dLですか。

1 L = 10dL だよ！



答え： 1 L 5 dL

