



## かけ算 26

● リボンの2ばいの長さ

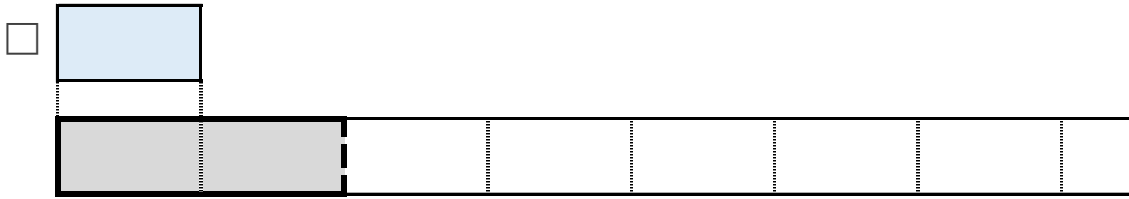


日にち：            月            日

名まえ \_\_\_\_\_

1 ㊦のリボンの2ばいの長さをもとめましょう。  
(うすい字はなぞりましょう)

① ㊦のリボンの2ばいの長さに色をぬりましょう。



② ㊦のリボンの長さは、3cmです。


①でぬったところの長さは何cmですか。

しき： $3 \times 2 = 6$

答え：6cm

2 ㊧のリボンの4ばいの長さをもとめましょう。

① □のリボンの4ばいの長さに色をぬりましょう。



② ㊧のリボンの長さは、5cmです。

①でぬったところの長さは何cmですか。

しき：

答え：





## かけ算 26

● リボンの2ばいの長さ

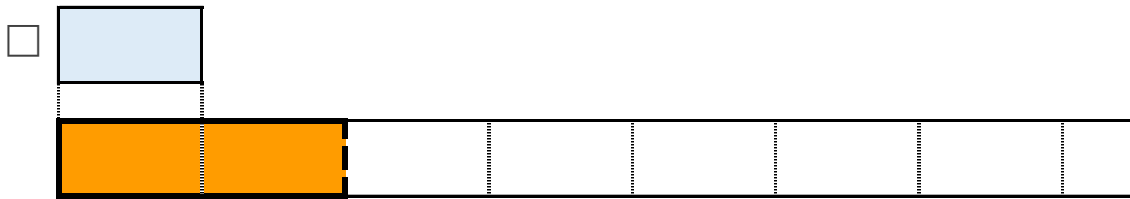


日にち：            月            日

名まえ \_\_\_\_\_

1 ㊦のリボンの2ばいの長さをもとめましょう。  
(うすい字はなぞりましょう)

① ㊦のリボンの2ばいの長さに色をぬりましょう。



② ㊦のリボンの長さは、3cmです。


①でぬったところの長さは何cmですか。

$$\text{しき} : 3 \times 2 = 6$$

答え： 6 cm

2 ㊧のリボンの4ばいの長さをもとめましょう。

① □のリボンの4ばいの長さに色をぬりましょう。



② ㊧のリボンの長さは、5cmです。

①でぬったところの長さは何cmですか。

$$\text{しき} : 5 \times 4 = 20$$

答え： 20cm

