



4けたの数 14


● 一万とは



日にち： 月 日

名まえ _____

・ 図を見てこたえましょう。(うすい字はなぞりましょう。)



1000

千を10こあつめた数を

一万 といひ、

10000 と書きます。



10000は、

100を 100 こ

あつめた数です。

① 1000のあつまりは何こありますか

(10 こ)

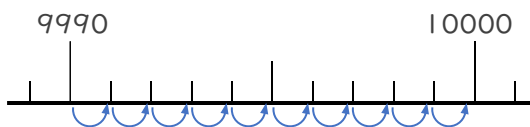
② ●は何こありますか。

(こ)

③ 9000は、あといくつで10000になりますか。

(1000)

④ 9990は、あといくつで10000になりますか。



(10)





4けたの数 14


● 一万とは



日にち： 月 日

名まえ _____

・ 図を見てこたえましょう。(うすい字はなぞりましょう。)



1000

千を10こあつめた数を

一万 といい、

10000 と書きます。



10000は、

100を **100** こ

あつめた数です。

① 1000のあつまりは何こありますか

[**10** こ]

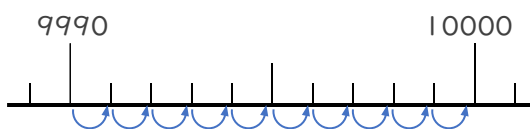
② ●は何こありますか。

[**10000** こ]

③ 9000は、あといくつで10000になりますか。

[**1000**]

④ 9990は、あといくつで10000になりますか。



[**10**]

