

# 分数7

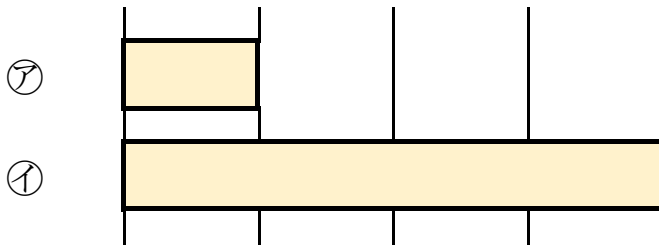
何倍？何分の一？



日にち： 月 日

名まえ \_\_\_\_\_

1 つぎの図を見てもんだいに答えましょう。(うすい字はなぞろう。)



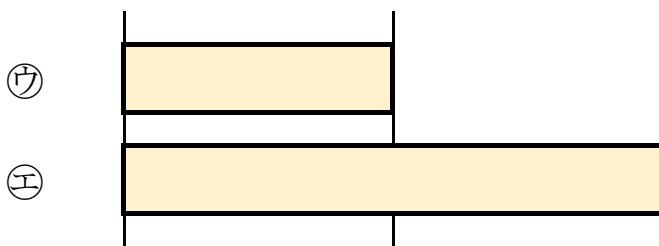
① 下の②のテープの長さは、①のテープの長さの何ばいですか。

答え： 4 ばい

② 上の①のテープの長さは、②のテープの長さの何分の一ですか。

答え：  $\frac{1}{4}$

2 つぎの図を見てもんだいに答えましょう。




① 下の㉡のテープの長さは、㉠のテープの長さの何ばいですか。

答え： \_\_\_\_\_

② 上の㉠のテープの長さは、㉡のテープの長さの何分の一ですか。

答え： \_\_\_\_\_





# 分数7

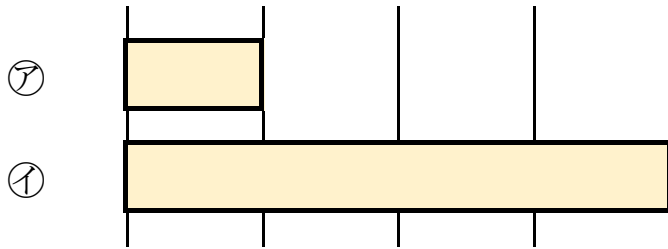
何倍？何分のー？



日にち： 月 日

名まえ \_\_\_\_\_

1 つぎの図を見てもんだいに答えましょう。(うすい字はなぞろう。)



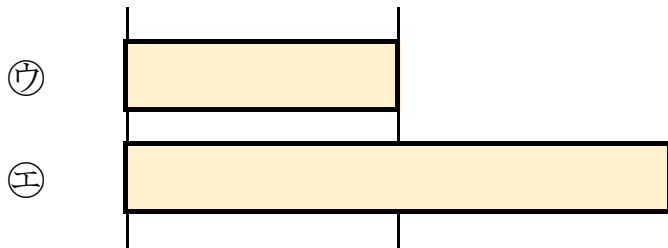
① 下の①のテープの長さは、②のテープの長さの何ばいですか。

答え： 4 ばい

② 上の②のテープの長さは、①のテープの長さの何分のーですか。

答え：  $\frac{1}{4}$

2 つぎの図を見てもんだいに答えましょう。



① 下の㊧のテープの長さは、㊦のテープの長さの何ばいですか。

答え： 2 ばい

② 上の㊦のテープの長さは、㊧のテープの長さの何分のーですか。

答え：  $\frac{1}{2}$

