



分数7

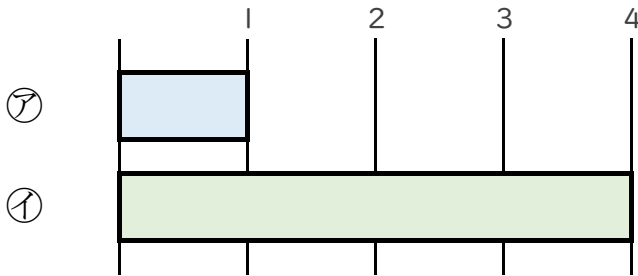
何倍？何分の一？



日にち： 月 日

名まえ _____

1 つぎの図を見てもんだいに答えましょう。(うすい字はなぞろう。)



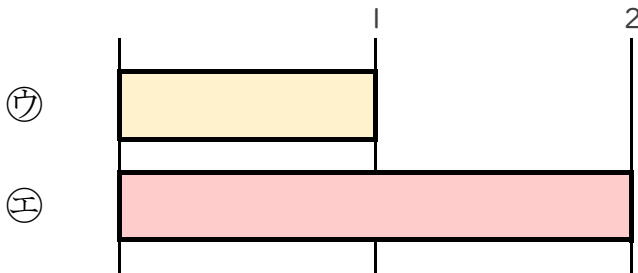
① 下の①のテープの長さは、②のテープの長さの何ばいですか。

答え： 4ばい

② 上の②のテープの長さは、①のテープの長さの何分の一ですか。

答え： $\frac{1}{4}$

2 つぎの図を見てもんだいに答えましょう。



① 下の①のテープの長さは、②のテープの長さの何ばいですか。

答え： _____

② 上の②のテープの長さは、①のテープの長さの何分の一ですか。

答え： _____





分数7

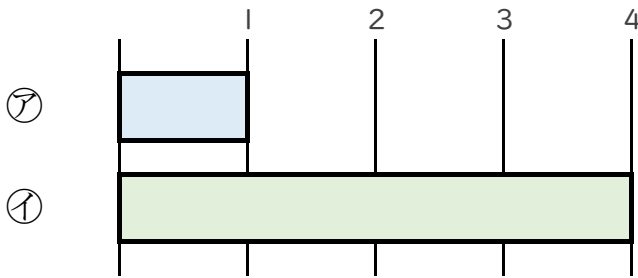
何倍？何分の一？



日にち： 月 日

名まえ _____

1 つぎの図を見てもんだいに答えましょう。(うすい字はなぞろう。)



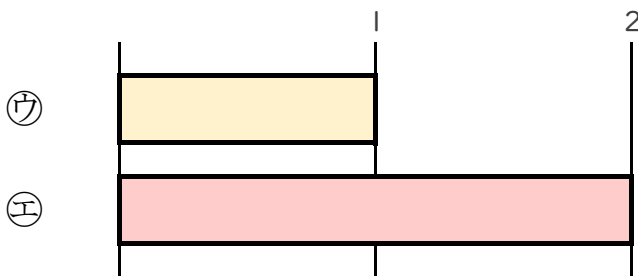
① 下の㊩のテープの長さは、㊦のテープの長さの何ばいですか。

答え： 4ばい

② 上の㊦のテープの長さは、㊩のテープの長さの何分の一ですか。

答え： $\frac{1}{4}$

2 つぎの図を見てもんだいに答えましょう。



① 下の㊶のテープの長さは、㊵のテープの長さの何ばいですか。

答え： 2ばい

② 上の㊵のテープの長さは、㊶のテープの長さの何分の一ですか。

答え： $\frac{1}{2}$