



# 4けたの数 I

● 千のまとまり



日にち： 月 日

名まえ \_\_\_\_\_

・ ビーズは何こありますか。□ に数を書きましょう。


(うすい字はなぞりましょう。)

1000が  こ

100が  こ

10が  こ

1が  こ



は ● が 100こだよ！

100が10こで1000になるね！



ビーズは

2	4	6	5
---	---	---	---

こ





# 4けたの数 I

● 千のまとまり


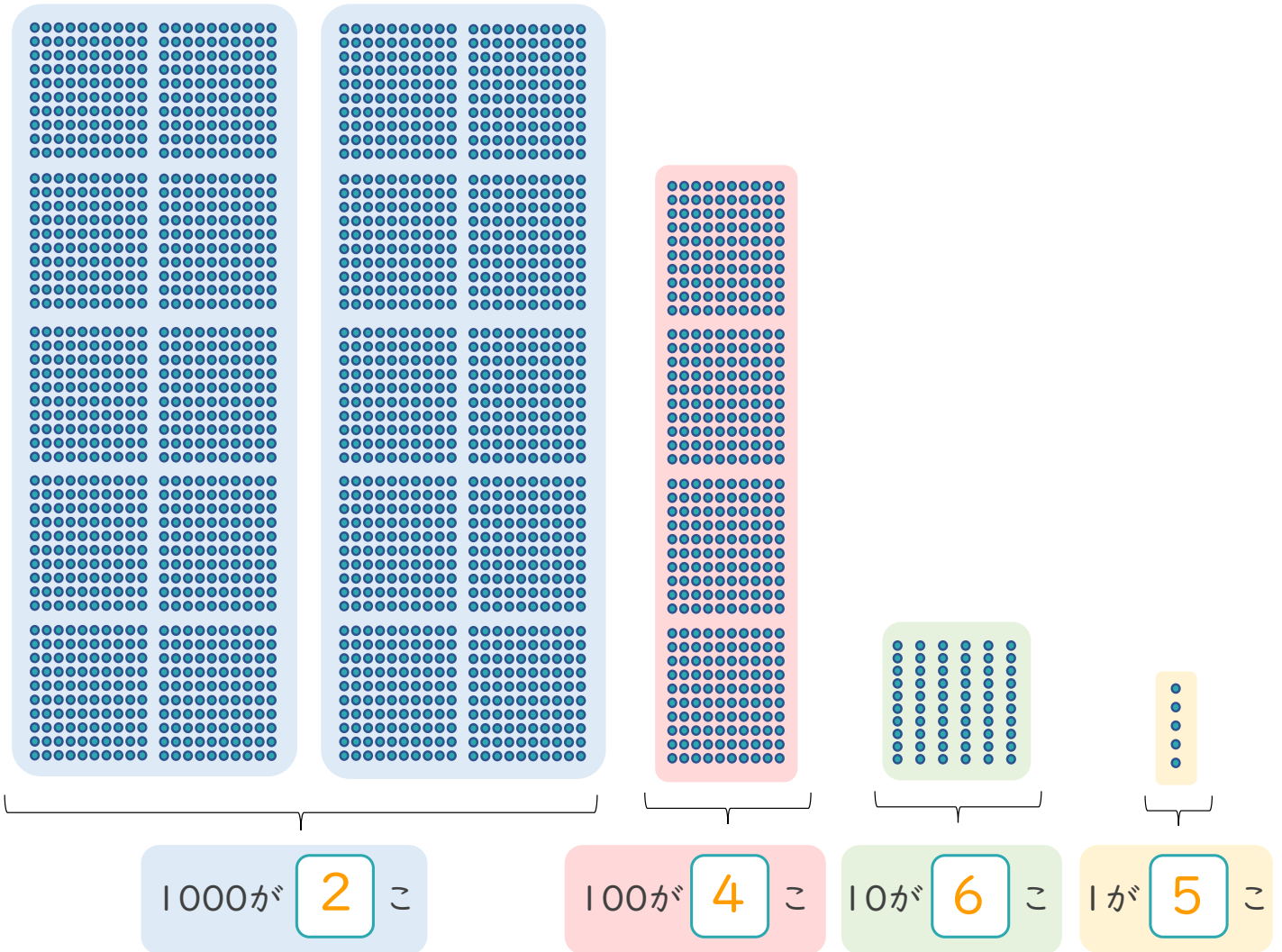


日にち： 月 日

名まえ \_\_\_\_\_

・ ビーズは何こありますか。□ に数を書きましょう。

(うすい字はなぞりましょう。)



は ・ が 100こだよ！

100が10こで1000になるね！



ビーズは

2	4	6	5
---	---	---	---

こ

