

分数5

◎ 同じ長さに分けた
テープの1つ分の長さ



日にち： 月 日


名まえ

・ つぎのもんだいに答えましょう。(うすい字はなぞりましょう。)

① 同じ長さになるように、テープを3つに分けました。

分けた1つ分の長さは、もとの長さの何分の一ですか。

もとの長さ

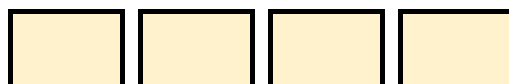


答え：
 $\frac{1}{3}$

② 同じ長さになるように、テープを4つに分けました。

分けた1つ分の長さは、もとの長さの何分の一ですか。

もとの長さ



答え：



分数5

◎ 同じ長さに分けた
テープの1つ分の長さ



日にち： 月 日

名まえ

・ つぎのもんだいに答えましょう。(うすい字はなぞりましょう。)

① 同じ長さになるように、テープを3つに分けました。

分けた1つ分の長さは、もとの長さの何分の一ですか。

もとの長さ

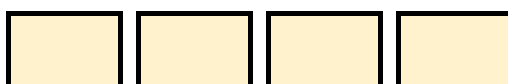


答え： $\frac{1}{3}$

② 同じ長さになるように、テープを4つに分けました。

分けた1つ分の長さは、もとの長さの何分の一ですか。

もとの長さ



答え： $\frac{1}{4}$

