



3けたの数 2

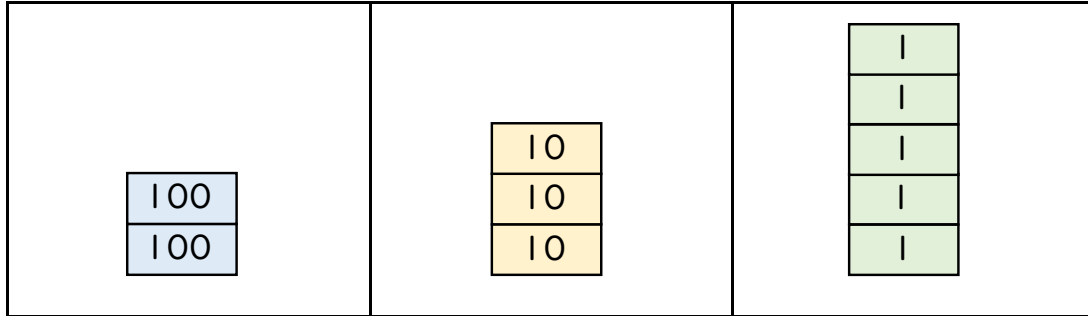
◎ 大きな数をかん字と数字であらわそう (0がない)



日にち： 月 日

名まえ _____

1 二百三十五を数字で書きましょう。(うすい字はなぞりましょう。)



百のくらい	十のくらい	一のくらい
2	3	5

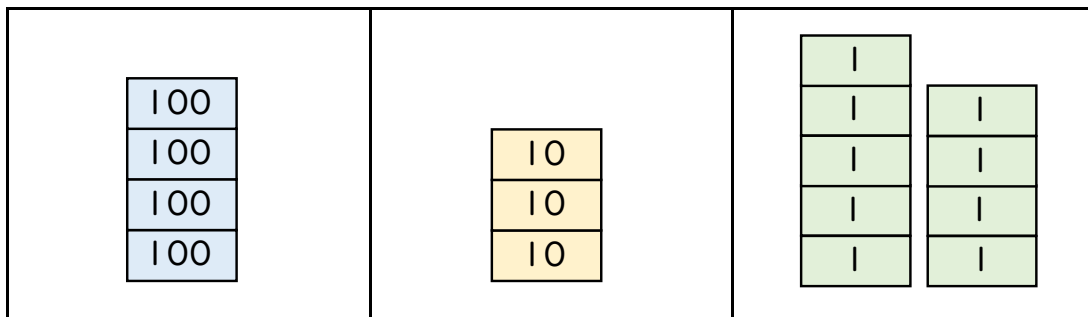
読み方は
にひゃくさんじゅうご だよ!

235



(235)

2 439を漢字で書きましょう。(うすい字はなぞりましょう。)



百のくらい	十のくらい	一のくらい
4		

(四百三十九)





3けたの数 2

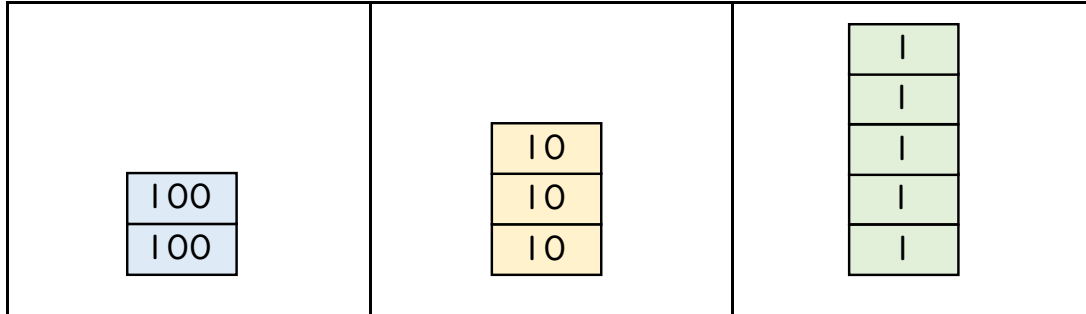
◎ 大きな数をかん字と数字であらわそう (0がない)



日にち： 月 日

名まえ _____

1 二百三十五を数字で書きましょう。(うすい字はなぞりましょう。)



百のくらい	十のくらい	一のくらい
2	3	5

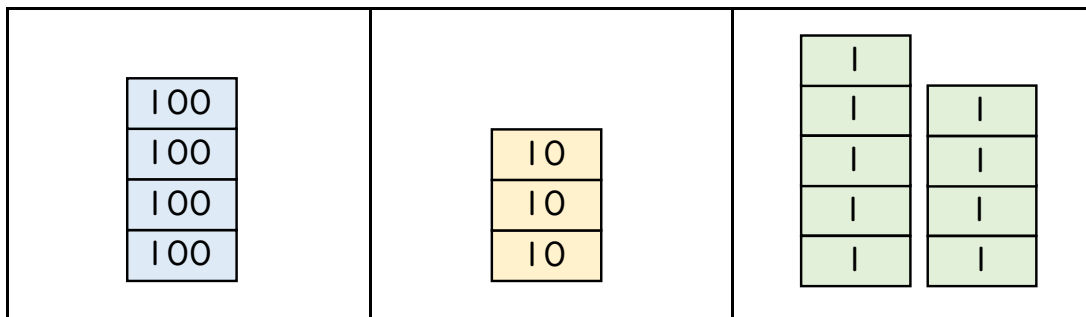
読み方は
にひゃくさんじゅうご だよ!

235



235

2 439を漢字で書きましょう。(うすい字はなぞりましょう。)



百のくらい	十のくらい	一のくらい
4	3	9

四百三十九

