



4けたの数 12

● 数の線のめもりが表す数



日にち： 月 日

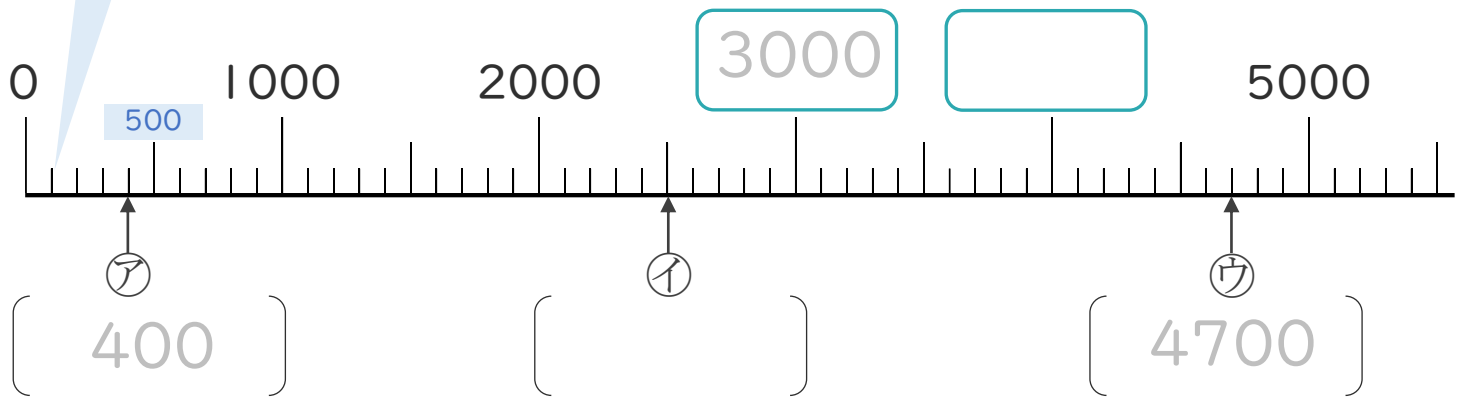
名まえ _____

1 下の数の線を見て答えましょう。(うすい字はなぞりましょう。)

☆いちばん小さい1めもりはいくつ？

0と1000の間が10こに分かれているから、

いちばん小さい1めもりは だね！

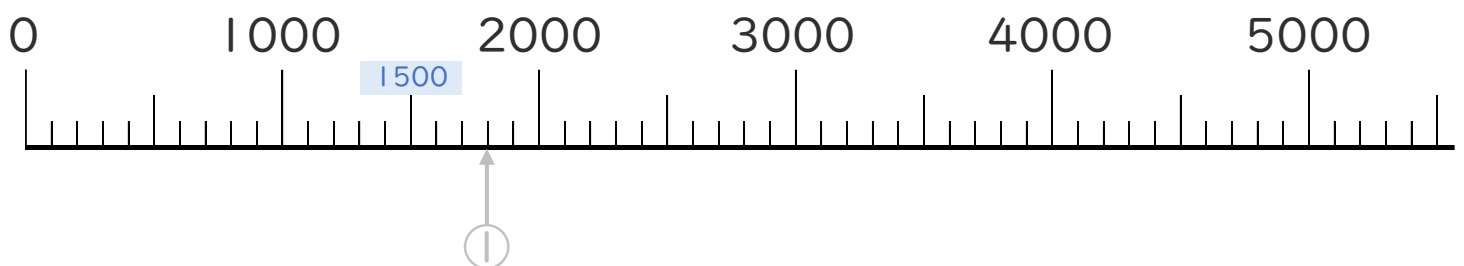


① 上の数の線の にあてはまる数を書きましょう。

② ア、イ、ウのめもりが表している数を [] に書きましょう。

2 次の数を表すめもりに、↑を書きましょう。(うすい字はなぞりましょう。)

① 1800 ② 3500





4けたの数 12

● 数の線のめもりが表す数



日にち： 月 日

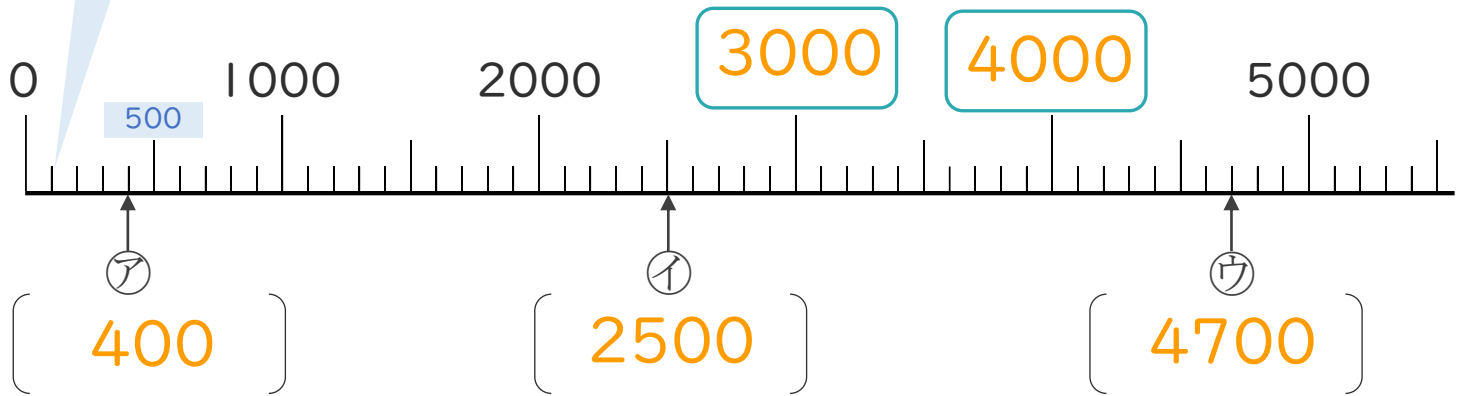
名まえ _____

1 下の数の線を見て答えましょう。(うすい字はなぞりましょう。)

☆いちばん小さい1めもりはいくつ？

0と1000の間が10こに分かれているから、

いちばん小さい1めもりは **100** だね！



① 上の数の線の にあてはまる数を書きましょう。

② ア、イ、ウのめもりが表している数を [] に書きましょう。

2 次の数を表すめもりに、↑を書きましょう。(うすい字はなぞりましょう。)

① 1800 ② 3500

