



# 長方形と正方形 9

◎ 長方形かな？正方形かな？




日にち： 月 日

名まえ \_\_\_\_\_

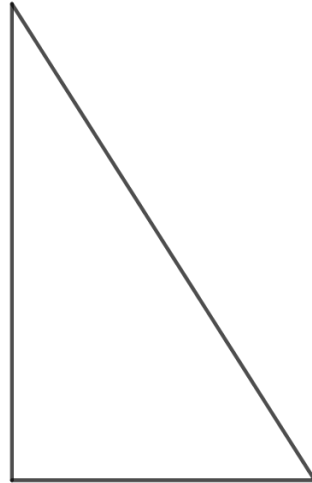
1 つぎの三角形や四角形の名前をいみましょう。  
(うすい字はしっかりなぞりましょう。)

①




( 正方形 )

②



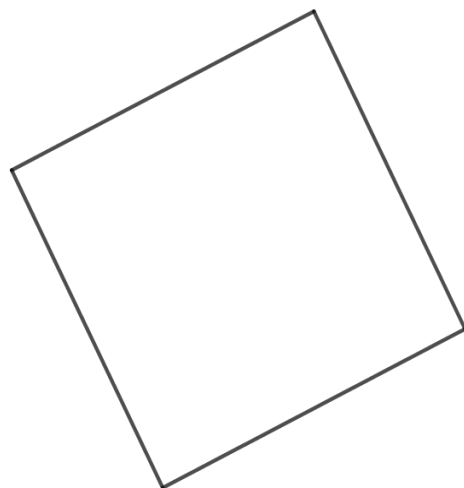
( 直角三角形 )

③



( )

④



( )



# 長方形と正方形 9

◎ 長方形かな？正方形かな？



日にち：      月      日

名まえ \_\_\_\_\_

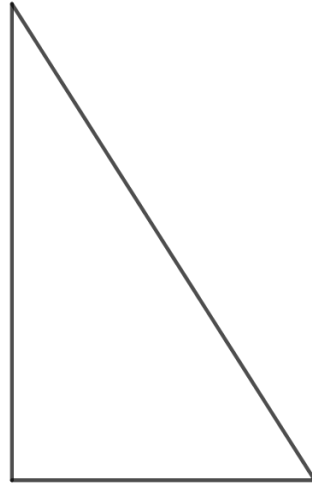
1 つぎの三角形や四角形の名前をいみましょう。  
(うすい字はしっかりなぞりましょう。)

①




(      正方形      )

②



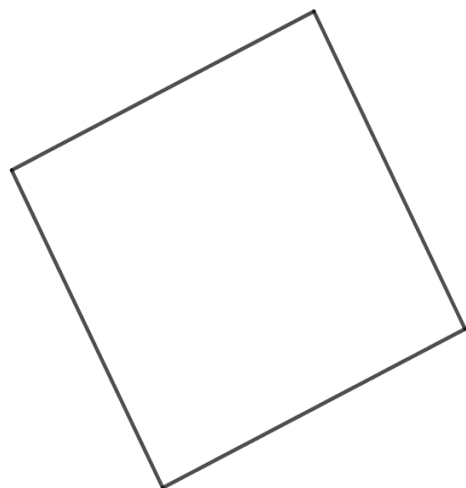
(      直角三角形      )

③



(      長方形      )

④



(      正方形      )