



長方形と正方形 9

● 長方形かな? 正方形かな?




日にち： 月 日

名まえ _____

・ つぎの三角形や四角形の名前を書きましょう。

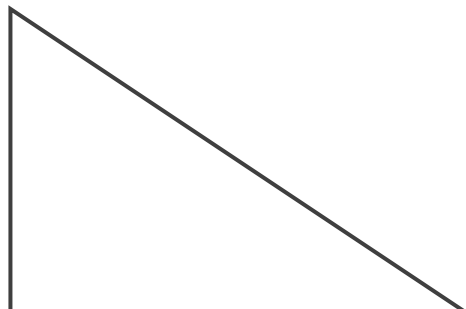
(うすい字は なぞりましょう。)

①



〔 正方形 〕

②




〔 直角三角形 〕

③



〔 〕

④



〔 〕





長方形と正方形 9

● 長方形かな？正方形かな？




日にち： 月 日

名まえ _____

・ つぎの三角形や四角形の名前を書きましょう。

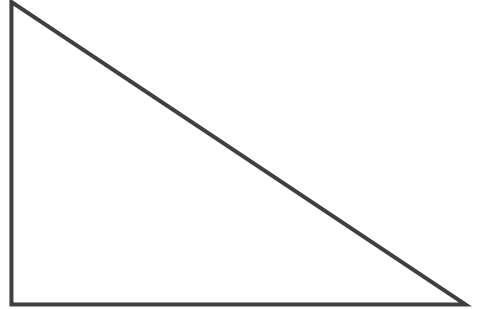
(うすい字はなぞりましょう。)

①




〔 正方形 〕

②




〔 直角三角形 〕

③



〔 長方形 〕

④



〔 正方形 〕

