



長さのたんい 13

● きまった長さの
直線をひく




日にち： 月 日


名まえ _____

・ |---- から つぎの ^{なが}長さの ^{ちよくせん}直線を ひきましょう。(うすい^{せん}線は なぞりましょう。)


① 5 cm




② 7 cm



③ 4 cm 5 mm



④ 5 5 mm





長さのたんい 13

● きまった長さの
直線をひく




日にち： 月 日

名まえ _____

・ |----- から つぎの ^{なが}長さの ^{ちよくせん}直線を ひきましょう。(うすい^{せん}線は なぞりましょう。)


① 5 cm



② 7 cm



③ 4 cm 5 mm



④ 5 5 mm

