



たし算と
ひき算のひっ算！

● 百のくらいへくり上がり
(図でかんがえる)



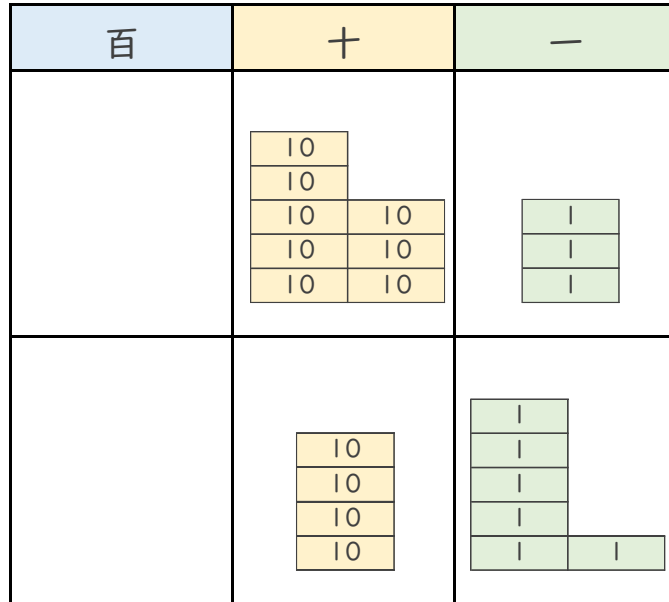
日にち： 月 日

名まえ _____

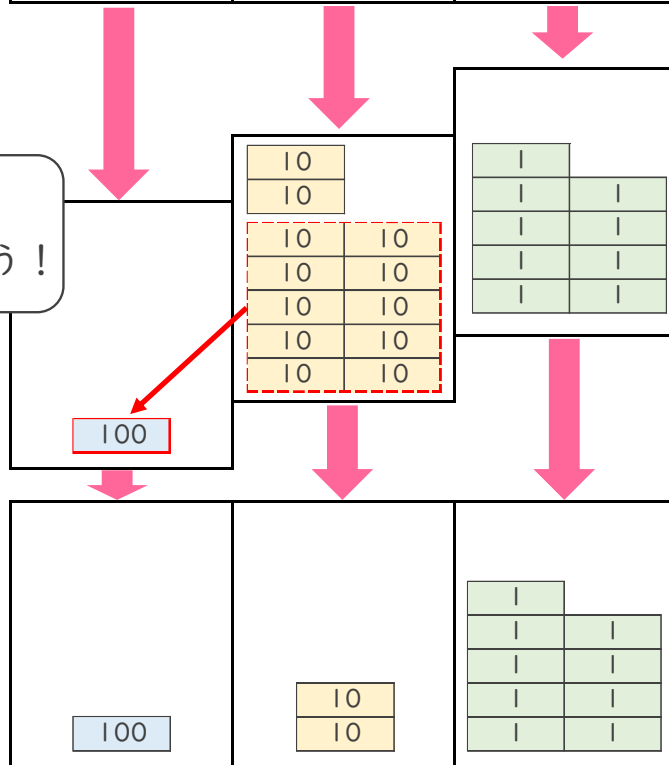
- ・ ゆきさんのクラスでは、きのうまでにメダルを 83こ 作りました。今日は、46こ 作りました。メダルは、ぜんぶで何こ できましたか。

(うすい字はなぞりましょう。)

しき： $83 + 46 = 129$



百のくらいに
1くり上げよう！



答え： 129こ





たし算と
ひき算のひっ算！

◎ 百のくらいへくり上がり
(図でかんがえる)



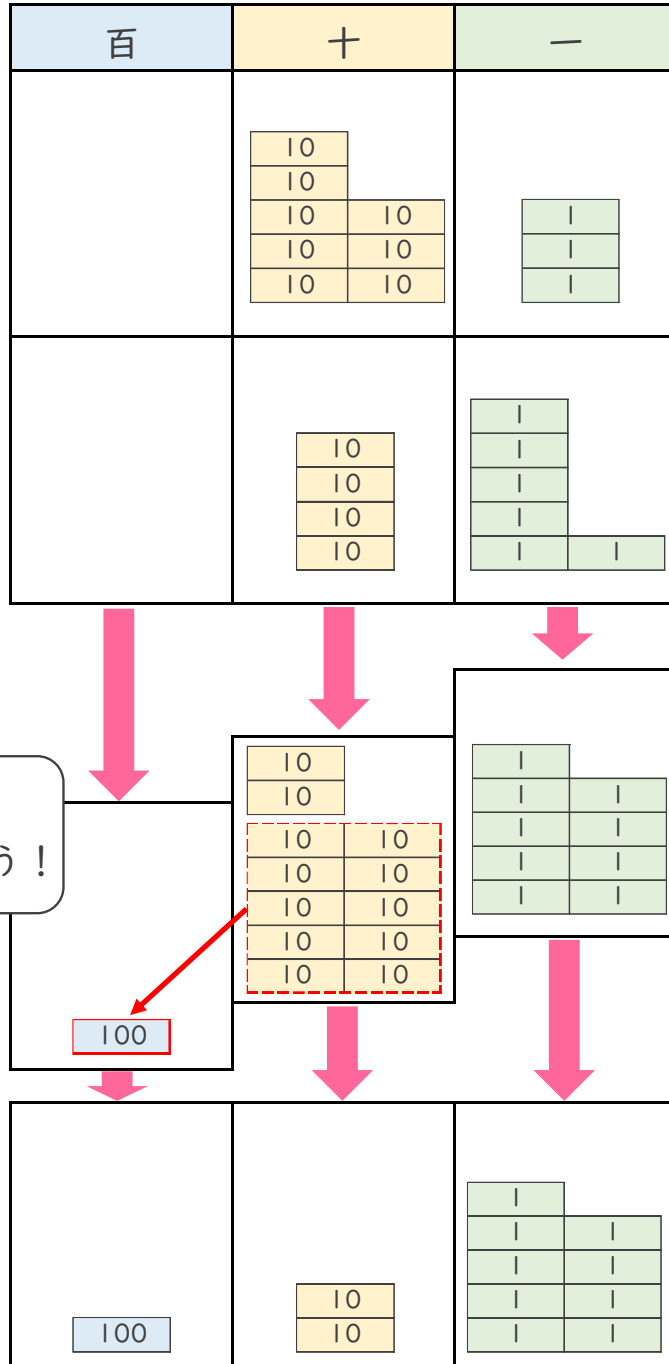
日にち： 月 日

名まえ _____

- ・ ゆきさんのクラスでは、きのうまでにメダルを 83こ 作りました。今日は、46こ 作りました。メダルは、ぜんぶで何こ できましたか。

(うすい字はなぞりましょう。)

しき： $83 + 46 = 129$



百のくらいに
1くり上げよう！



答え： 129こ

