



3けたの数 13

◎ 百のたばのたし算・ひき算

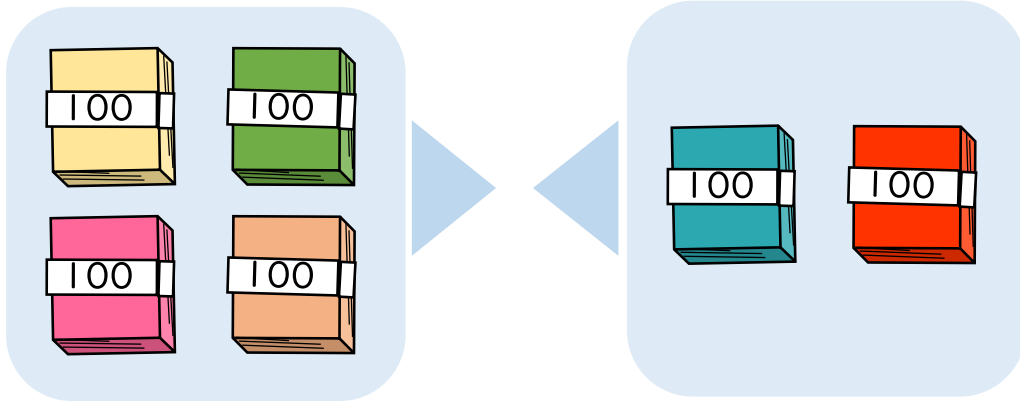


日にち： 月 日

名まえ _____

- 400+200の答えはいくつですか。

(うすい字はなぞりましょう。)

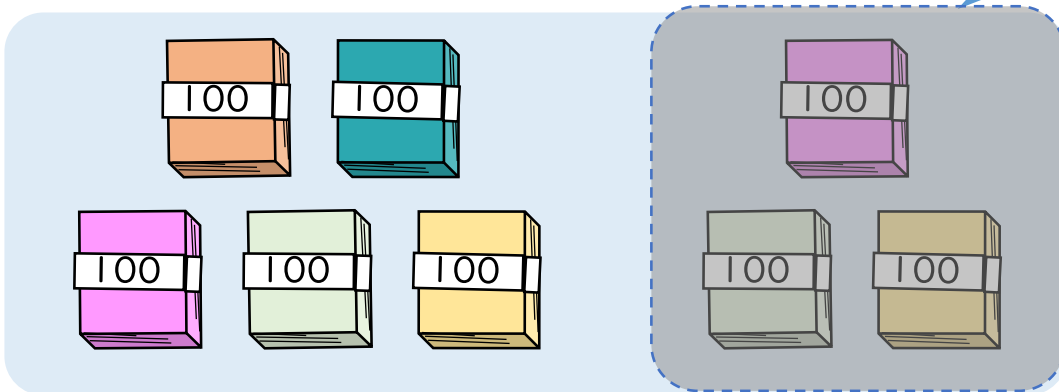


100のたばが + = で こだから

$$400 + 200 = \boxed{600}$$

- 800-300の答えはいくつですか。

(うすい字はなぞりましょう。)



100のたばが - = で こだから

$$800 - 300 = \boxed{}$$





3けたの数 13

◎ 百のたばのたし算・ひき算

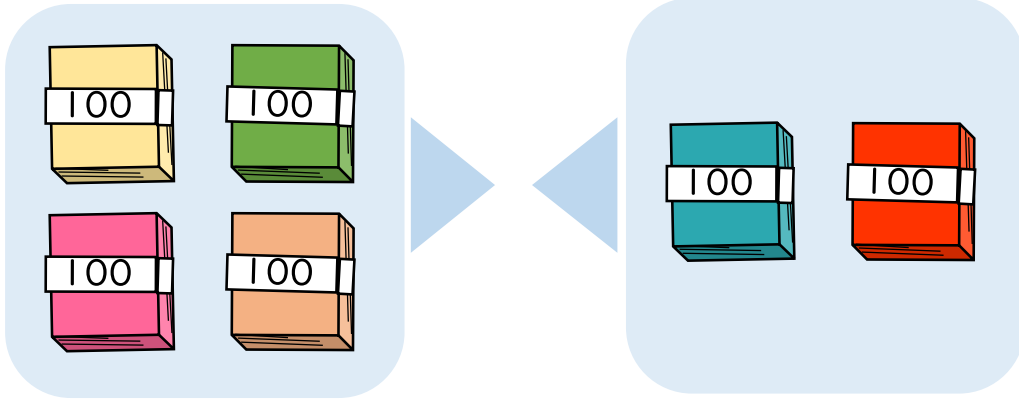


日にち： 月 日

名まえ _____

- 400+200の答えはいくつですか。

(うすい字はなぞりましょう。)

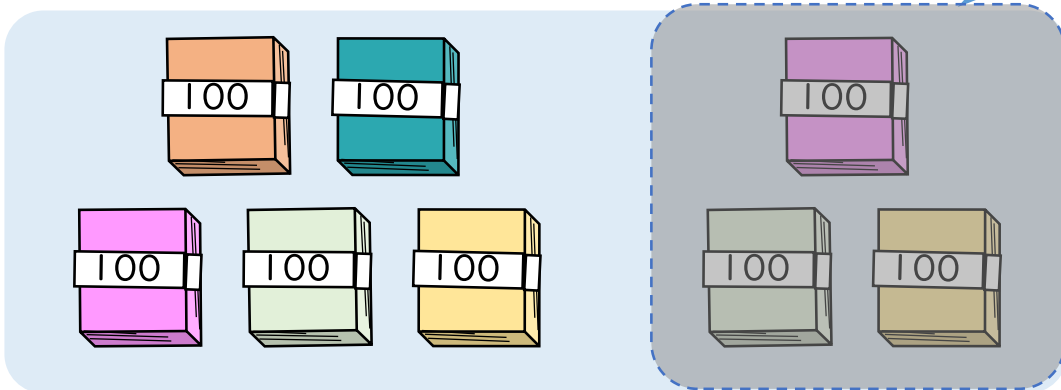


100のたばが $4 + 2 = 6$ で 6 こだから

$$400 + 200 = 600$$

- 800-300の答えはいくつですか。

(うすい字はなぞりましょう。)



100のたばが $8 - 3 = 5$ で 5 こだから

$$800 - 300 = 500$$

