



長方形と正方形 3

◎ 直角三角形を見つけよう



日にち： 月 日

名まえ _____

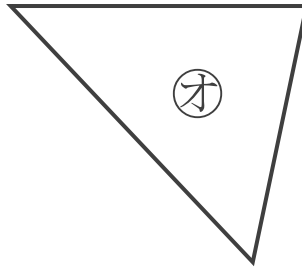
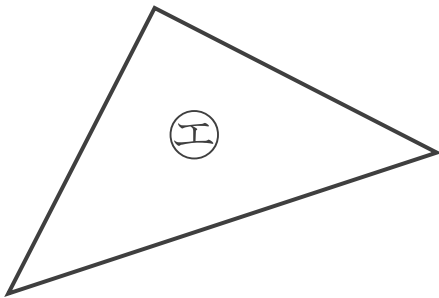
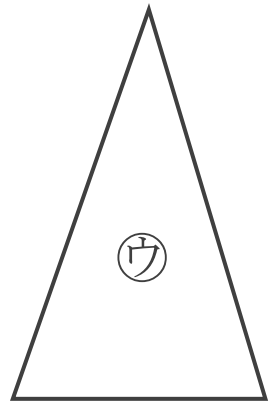
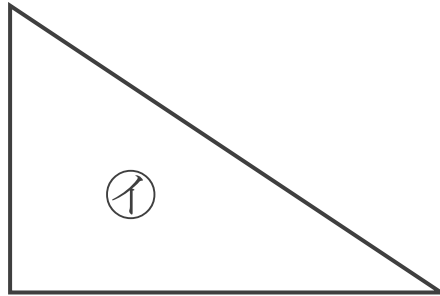
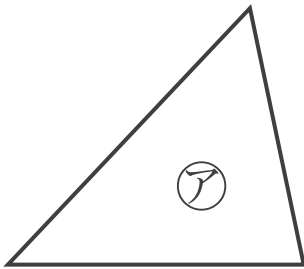
・ 直角三角形はどれですか。

三角じょうぎをつかって、ぜんぶ見つけましょう。

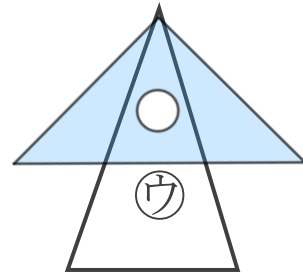
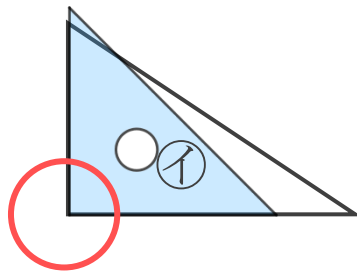
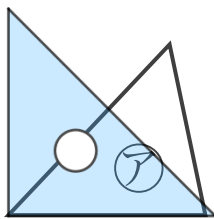
(うすい字はなぞりましょう。)

ちよっかくさんかくけい

直角のかどがある三角形を **直角三角形** といいます。



三角じょうぎの直角のかどをあててみよう
ぴったりかさなるかどはあるかな？



答え： イ, エ





長方形と正方形 3

◎ 直角三角形を見つけよう



日にち： 月 日

名まえ _____

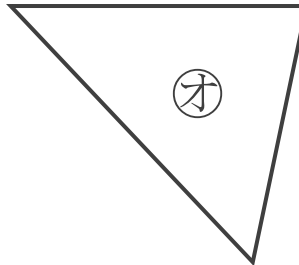
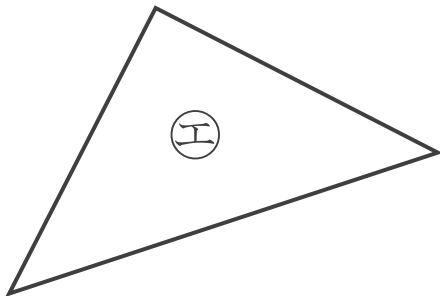
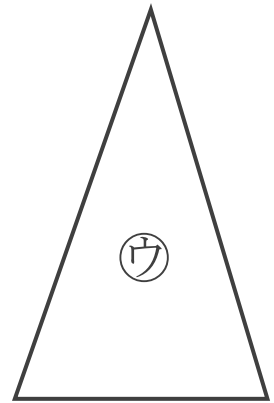
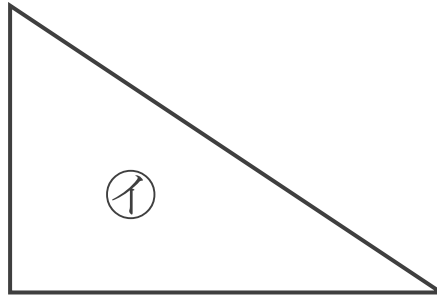
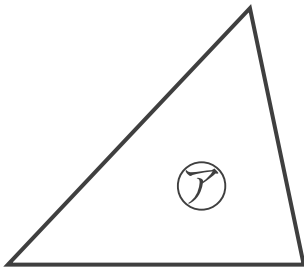
・ 直角三角形はどれですか。

三角じょうぎをつかって、ぜんぶ見つけましょう。

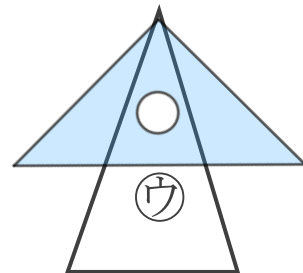
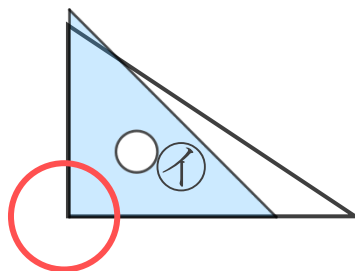
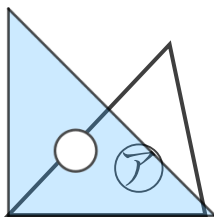
(うすい字はなぞりましょう。)

ちよっかくさんかくけい

直角のかどがある三角形を **直角三角形** といいます。



三角じょうぎの直角のかどをあててみよう
ぴったりかさなるかどはあるかな？



答え： **イ, エ**

