



4けたの数4

●色紙のまい数を
数字であらわそう

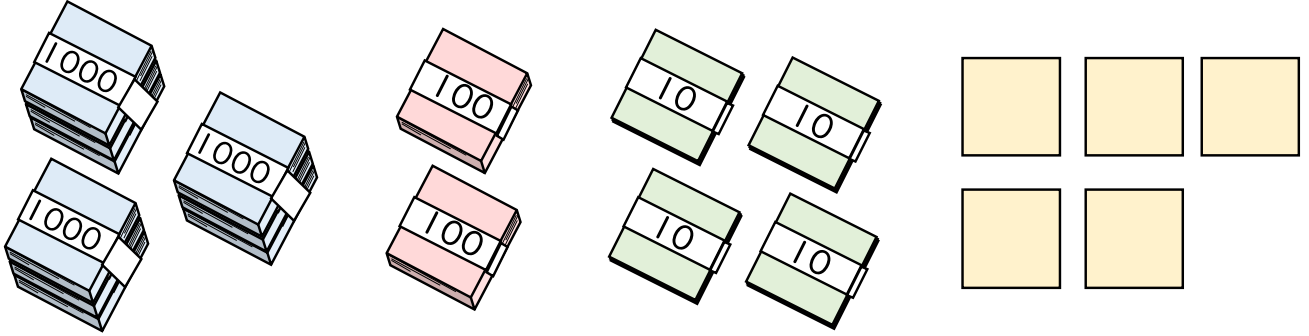


日にち： 月 日

名まえ _____

・色紙の数を 数字で書きましょう。(うすい字はなぞりましょう。)

①



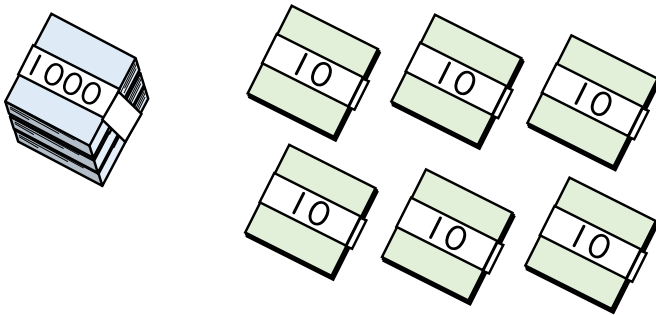
千	百	十	一
3	2	4	5

それぞれのたばの数を
表に入れてみよう!



{ さい }

②



千	百	十	一
1	0	6	0

{ さい }





4けたの数4

●色紙のまい数を
数字であらわそう

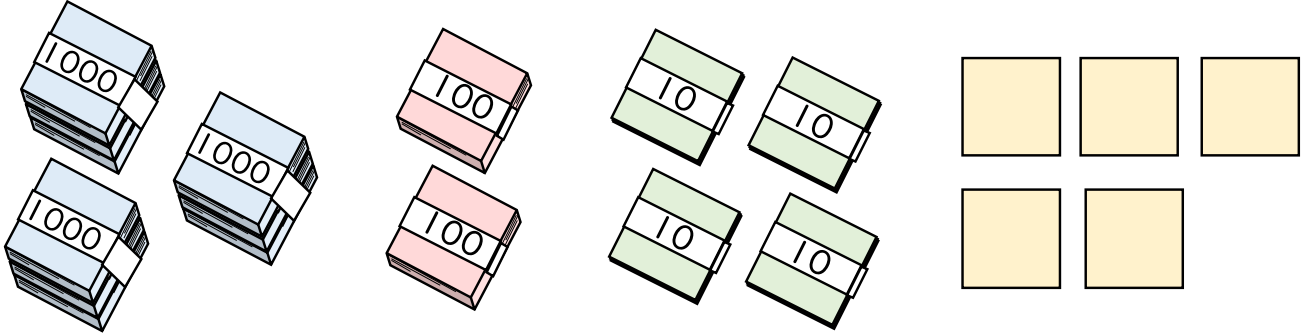


日にち： 月 日

名まえ _____

・色紙の数を 数字 で書きましょう。(うすい字はなぞりましょう。)

①



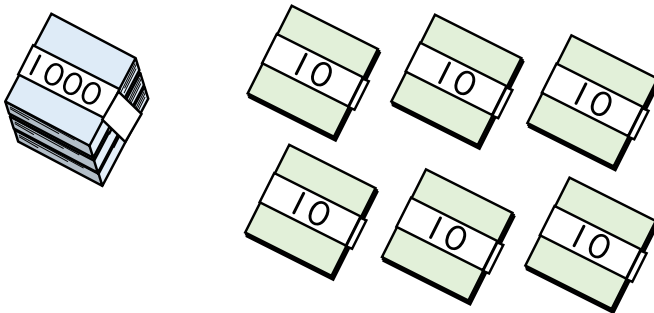
千	百	十	一
3	2	4	5

それぞれのたばの数を
表に入れてみよう!



3245 まい

②



千	百	十	一
1	0	6	0

1060 まい

