



# 長いものの長さ3

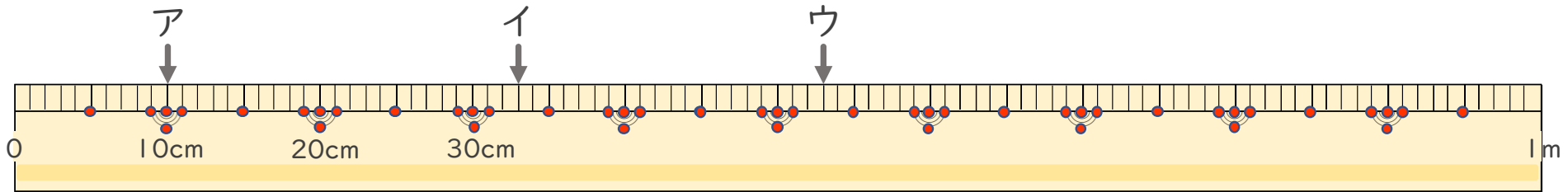
● 1メートルものさしの読みかた



日にち：        月        日

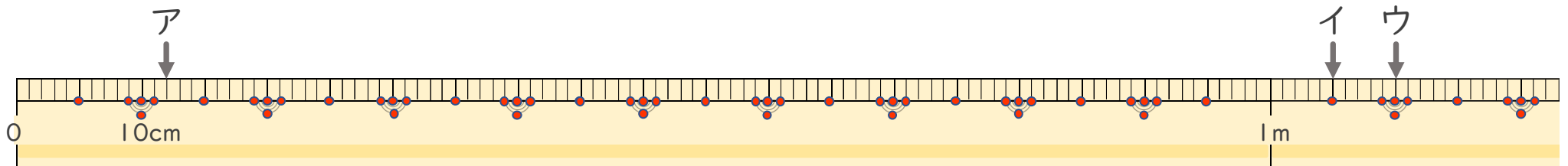
名まえ \_\_\_\_\_

1 左はしからア、イ、ウ、までの長さながはそれぞれどれだけですか。（うすい字はなぞりましょう。）



ア ( 10 cm )    イ ( 33 cm )    ウ (        cm )

2 左はしからア、イ、ウ、までの長さながはそれぞれどれだけですか。（うすい字はなぞりましょう。）



ア (        cm )    イ (    m    cm )    ウ (    m    cm )



# 長いものの長さ3

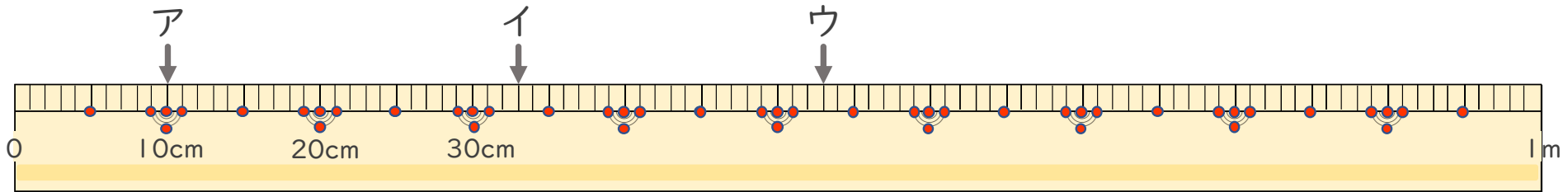
● 1メートルものさしの読みかた



日にち：      月      日

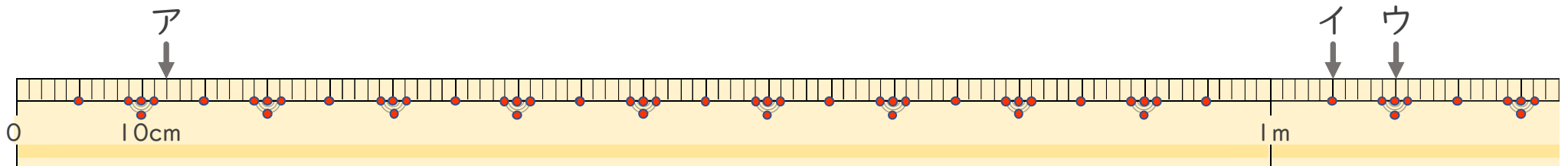
名まえ \_\_\_\_\_

1 左はしからア、イ、ウ、までの長さながはそれぞれどれだけですか。（うすい字はなぞりましょう。）



ア ( 10 cm )      イ ( 33 cm )      ウ ( 53 cm )

2 左はしからア、イ、ウ、までの長さながはそれぞれどれだけですか。（うすい字はなぞりましょう。）



ア ( 12 cm )      イ ( 1 m 5 cm )      ウ ( 1 m 10 cm )