

# 3けたの数 7


◎ 10を集めた数



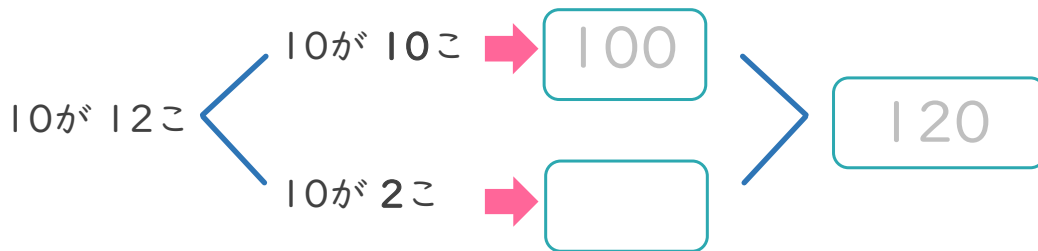
日にち： 月 日

名まえ \_\_\_\_\_

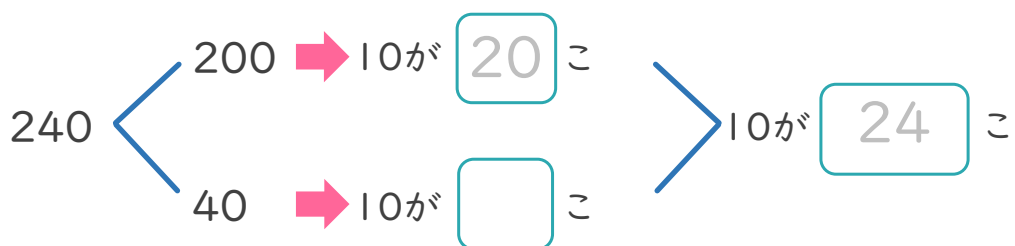


- 10を12こあつめた数はいくつですか。(うすい字はなぞりましょう。)




お金で考えると  
わかりやすいね!



- 240は、10を何こあつめた数ですか。(うすい字はなぞりましょう。)





# 3けたの数 7


◎ 10を集めた数



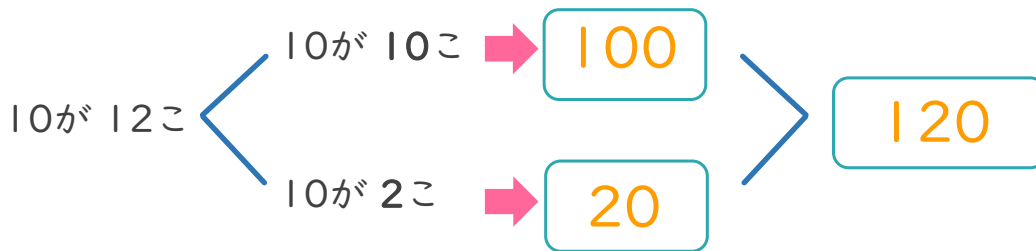
日にち： 月 日

名まえ \_\_\_\_\_

- ・ 10を 12こ あつめた 数はいくつですか。(うすい字はなぞりましょう。)



お金で考えると  
わかりやすいね!



- ・ 240は、10を 何こ あつめた 数ですか。(うすい字はなぞりましょう。)

