



# 3けたの数 10

● いくつずつ  
増えているかな (数直線)



日にち：            月            日

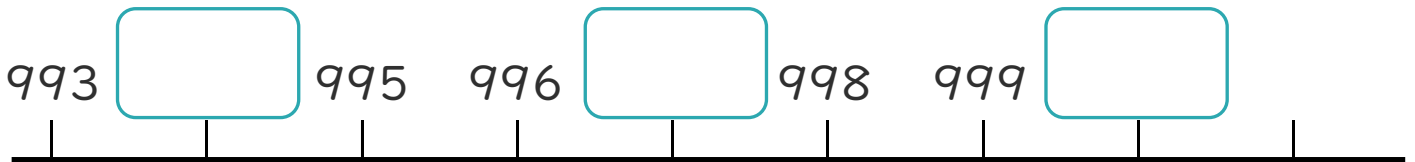
名まえ \_\_\_\_\_

・ □ にあう数をかきましょう。

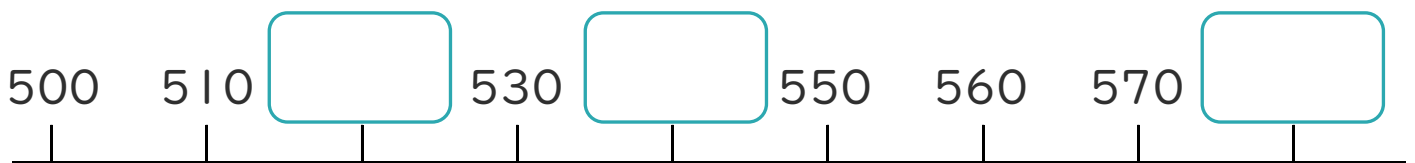
①



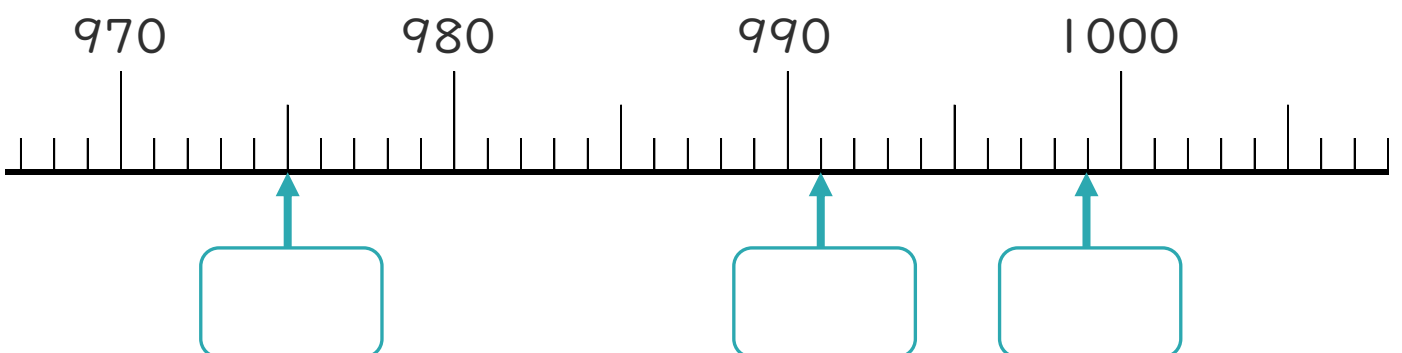
②



③



④





# 3けたの数 10

● いくつずつ  
増えているかな (数直線)



日にち：            月            日

名まえ \_\_\_\_\_

・ □ にあう数をかきましょう。

①



②



③



④

