



長さのたんい 15

◎ おれ線の長さくらべ

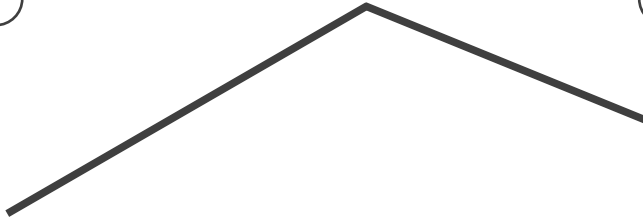


日にち： 月 日

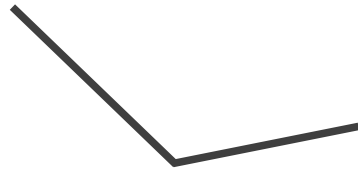
名まえ _____

1 ①の線と②の線の長さをくらべます。つぎの もんだいに 答えましょう。

①



②



① ①の線の長さは何cmですか。

しき：

こた
答え

② ②の線の長さは何cmですか。

しき：

こた
答え

③ ①の線と②の線ではどちらが長いですか。

答え () の線のほうが長い

2 計算をしましょう。

① $4\text{ cm} + 3\text{ cm} =$

② $5\text{ cm } 5\text{ mm} + 3\text{ cm} =$





長さのたんい 15

◎ おれ線の長さくらべ

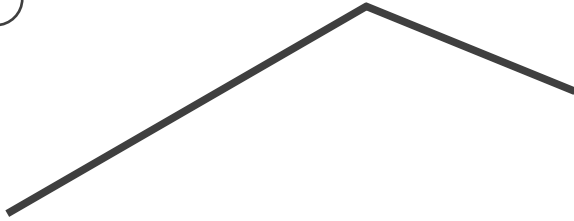


日にち： 月 日

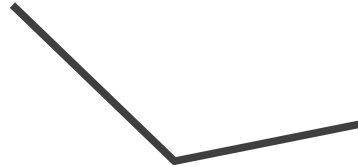
名まえ _____

1 ①の線と②の線の長さをくらべます。つぎの もんだいに 答えましょう。

①



②



① ①の線の長さは何cmですか。

しき： $5\text{ cm } 5\text{ mm} + 3\text{ cm} = 8\text{ cm } 5\text{ mm}$

こた 答え 8 cm 5 mm

② ②の線の長さは何cmですか。

しき： $3\text{ cm} + 2\text{ cm } 5\text{ mm} = 5\text{ cm } 5\text{ mm}$

こた 答え 5 cm 5 mm

③ ①の線と②の線ではどちらが長いですか。

答え (**①**) の線のほうが長い

2 計算をしましょう。

① $4\text{ cm} + 3\text{ cm} = 7\text{ cm}$

② $5\text{ cm } 5\text{ mm} + 3\text{ cm} = 8\text{ cm } 5\text{ mm}$

