



分数3


● もとの大きさの○分の一をさがす



日にち： 月 日


名まえ

1 もとの大きさの $\frac{1}{4}$ はどれですか。

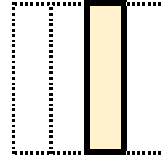


もとの大きさ

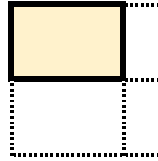
ア



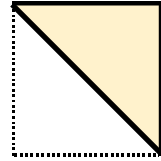
イ



ウ



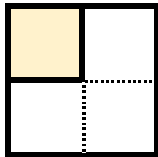
エ



答え：

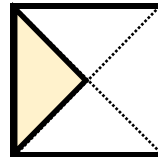
2 色をぬったぶぶんはもとの大きさの何分の一ですか。

①




答え：

③



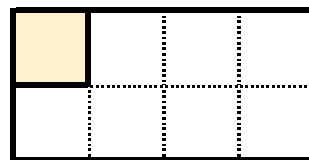
答え：

②




答え：

④



答え：





分数3


● もとの大きさの○分の一をさがす



日にち： 月 日


名まえ

1 もとの大きさの $\frac{1}{4}$ はどれですか。

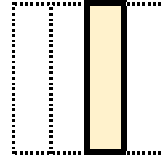


もとの大きさ

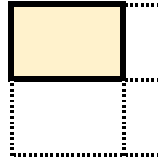
ア



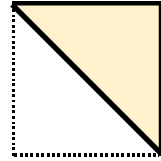
イ



ウ



エ

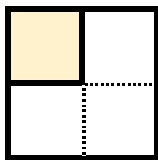


答え：

イ

2 色をぬったぶぶんはもとの大きさの何分の一ですか。

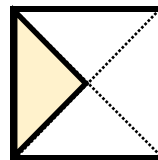
①



答え：

$\frac{1}{4}$


③



答え：

$\frac{1}{4}$

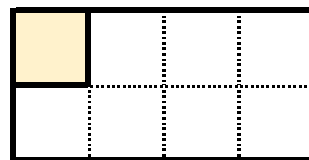
②



答え：

$\frac{1}{2}$

④



答え：

$\frac{1}{8}$

