

分数6

● もとの大きさはいくつ分？




日にち：            月            日


名まえ

1 もとの長さの  $\frac{1}{4}$  をいくつあつめると、もとの長さになりますか。

もとの長さの  $\frac{1}{4}$



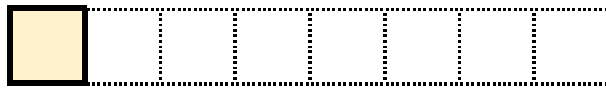
もとの長さ



答え： \_\_\_\_\_

2 もとの長さの  $\frac{1}{8}$  をいくつあつめると、もとの長さになりますか。

もとの長さの  $\frac{1}{8}$



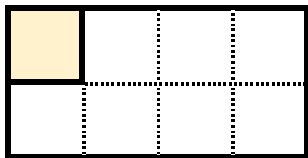
もとの長さ



答え： \_\_\_\_\_

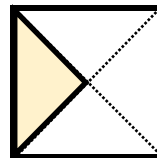
3 色をぬったぶぶんはもとの大きさの何分の一ですか。

①



答え： \_\_\_\_\_

②



答え： \_\_\_\_\_



分数6

● もとの大きさはいくつ分？

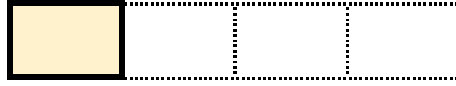


日にち：            月            日

名まえ

1 もとの長さの  $\frac{1}{4}$  をいくつあつめると、もとの長さになりますか。

もとの長さの  $\frac{1}{4}$




もとの長さ



答え： 4つ

2 もとの長さの  $\frac{1}{8}$  をいくつあつめると、もとの長さになりますか。

もとの長さの  $\frac{1}{8}$



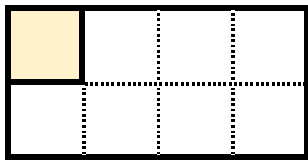
もとの長さ



答え： 8つ

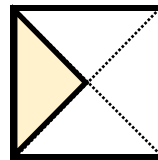
3 色をぬったぶぶんはもとの大きさの何分の一ですか。

①



答え：  $\frac{1}{8}$

②



答え：  $\frac{1}{4}$

