



# 長さのたんい 7

● ものさしではかる (mm)

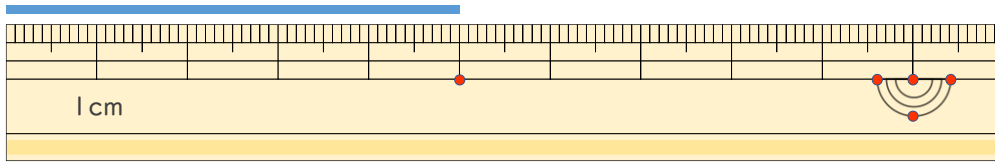
10

日にち： 月 日

名まえ \_\_\_\_\_

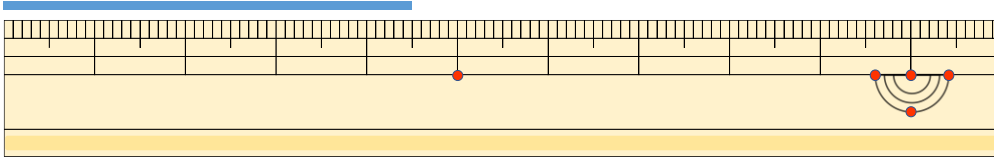
1 <sup>せん</sup>線の <sup>なが</sup>長さは どれだけですか。

①



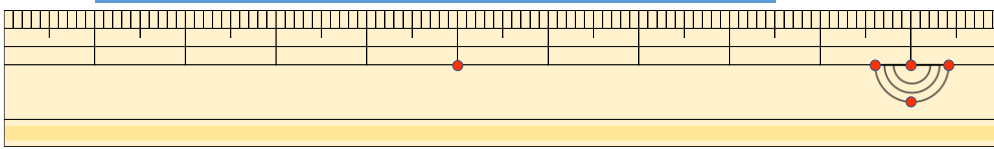
答え ( )

②



<sup>こた</sup>答え ( )

③



<sup>こた</sup>答え ( )

2 <sup>せん</sup>線の <sup>なが</sup>長さを ものさしではかりましょう。

①



<sup>こた</sup>答え ( )

②



<sup>こた</sup>答え ( )





# 長さのたんい 7

● ものさしではかる (mm)

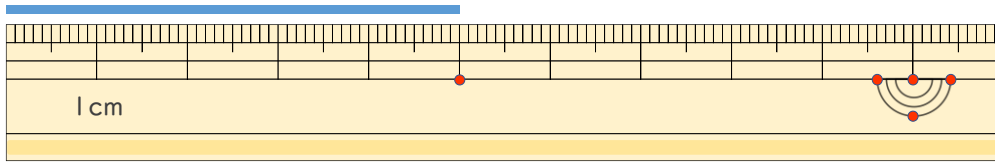
10

日にち： 月 日

名まえ \_\_\_\_\_

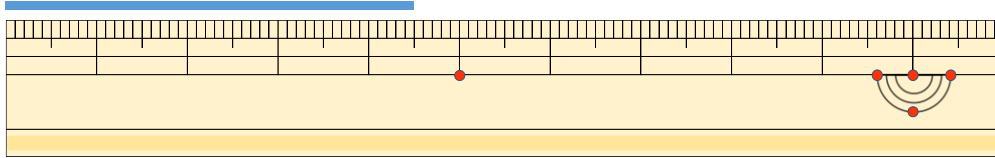
1 <sup>せん</sup> <sup>なが</sup> 線の長さはどれだけですか。

①



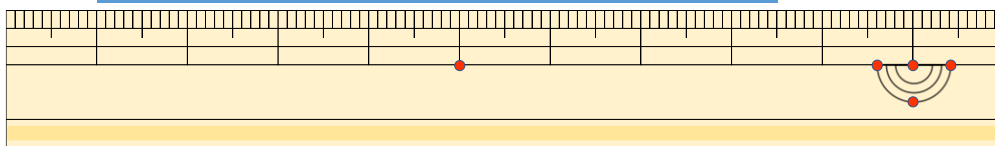
答え ( 5 cm )

②



こた 答え ( 4 cm 5 mm )

③



こた 答え ( 7 cm 5 mm )

2 <sup>せん</sup> <sup>なが</sup> 線の長さをものさしではかりましょう。

①



こた 答え ( 5 cm )

②



こた 答え ( 3 cm )

