



長さのたんい 7

● ものさしではかる (mm)

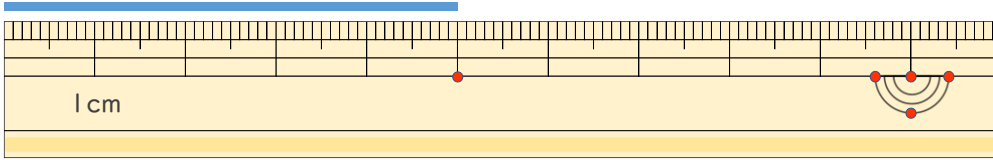
10

日にち： 月 日

名まえ _____

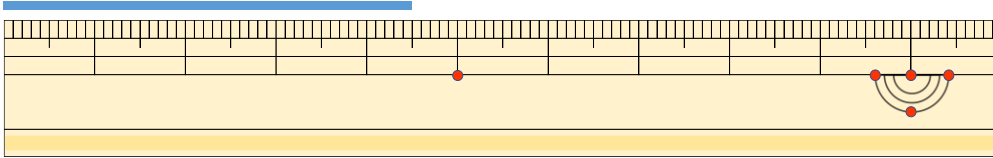
1 ^{せん}線の ^{なが}長さは どれだけですか。

①



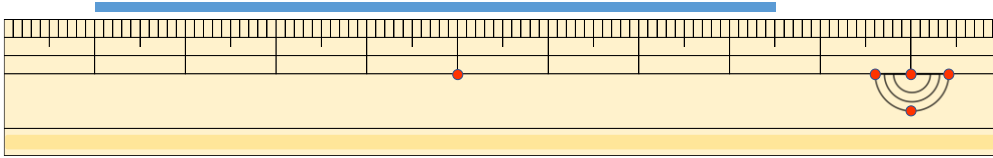
こた 答え (5 cm)

②



こた 答え (4 cm 5 mm)

③



こた 答え (7 cm 5 mm)

2 ^{せん}線の ^{なが}長さを ものさしではかりましょう。

①



こた 答え (5 cm)

②



こた 答え (3 cm)

