



# 長さのたんい 3

● 物のさしの見かた (cm)

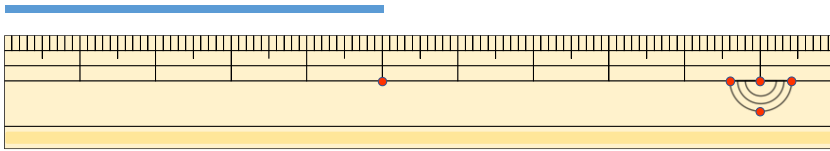


日にち：            月            日

名まえ \_\_\_\_\_

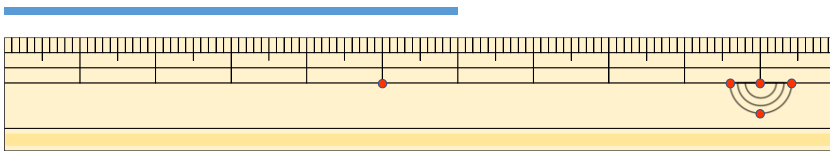
1 線の長さは何cmでしょう。

①



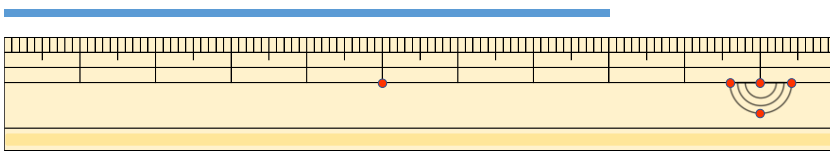
答え (            )

②



答え (            )

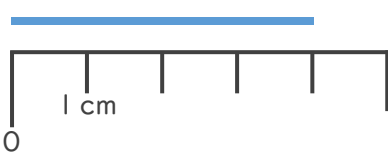
③



答え (            )

2 線の長さは何cmでしょう。

①



答え (            )

②



答え (            )





# 長さのたんい 3

● ものさしの見かた (cm)

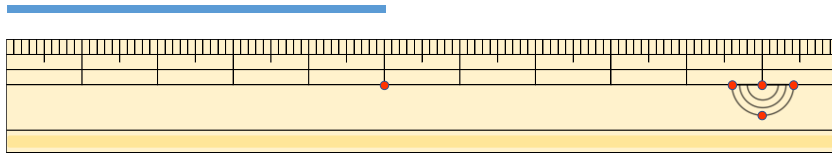


日にち：            月            日

名まえ \_\_\_\_\_

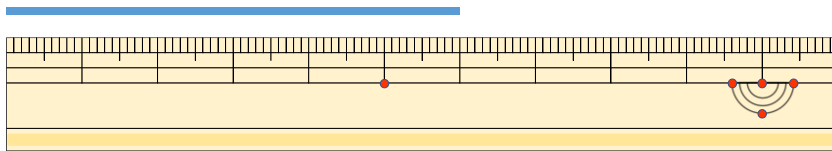
1 線の長さは何cmでしょう。

①



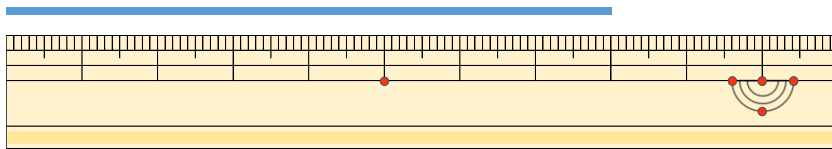
こた 答え ( 5 cm )

②



こた 答え ( 6 cm )

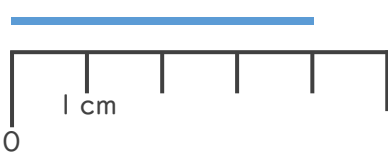
③



こた 答え ( 8 cm )

2 線の長さは何cmでしょう。

①



こた 答え ( 4 cm )

②



こた 答え ( 2 cm )

