



長さのたんい 2

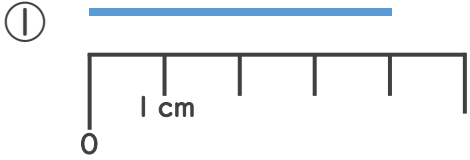
◎ センチメートル



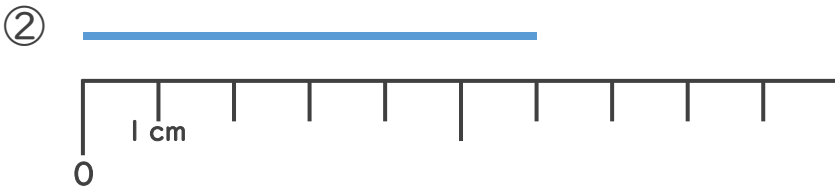
日にち： 月 日

名まえ _____

1 ^{せん}線の ^{なが}長さは ^{なん}何cmでしょう。



こた こた 答え ()



こた こた 答え ()

2 どちらのリボンが ^{なが}長いでしょう。



りかさん



みきさん



() さんのリボンの方が ^{なが}長い





長さのたんい 2

● センチメートル



日にち： 月 日

名まえ _____

1 ^{せん}線の ^{なが}長さは ^{なん}何cmでしょう。

① 



^{こた}答え (4 cm)

② 



^{こた}答え (6 cm)


2 どちらのリボンが ^{なが}長いでしょう。



りかさん



みきさん



(みき) さんのリボンの方が ^{なが}長い

