



## かけ算 26

● テープの3ばいの長さ


10

日にち：            月            日

名まえ \_\_\_\_\_

1 ㊦のテープの7ばいの長さを求めましょう。

① ㊦のテープの7ばいの長さに色をぬりましょう。



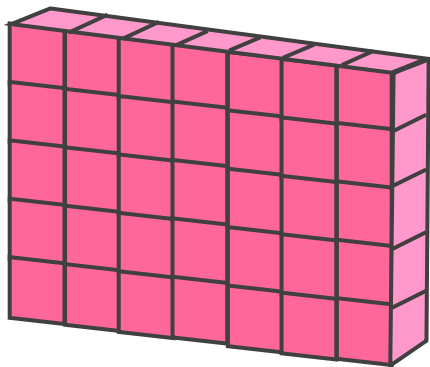
② ㊦のテープの長さをはかると、3cmでした。

①でぬったところの長さは何cmですか。

しき：

答え： \_\_\_\_\_

2 下のつみきの数をもとめるかけ算のしきを2つ書きましょう。



しき： (            ) (            )



# かけ算 26

● テープの3ばいの長さ

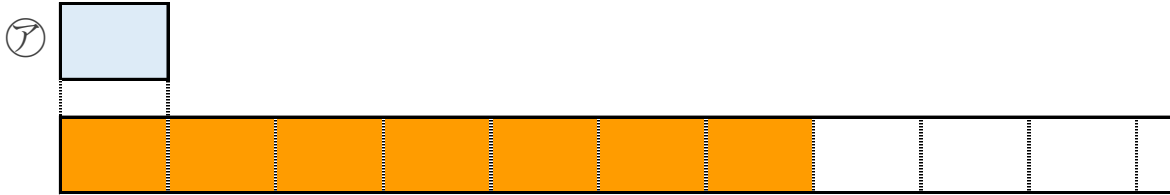


日にち：            月            日

名まえ \_\_\_\_\_

1 ㊦のテープの7ばいの長さを求めましょう。

① ㊦のテープの7ばいの長さに色をぬりましょう。



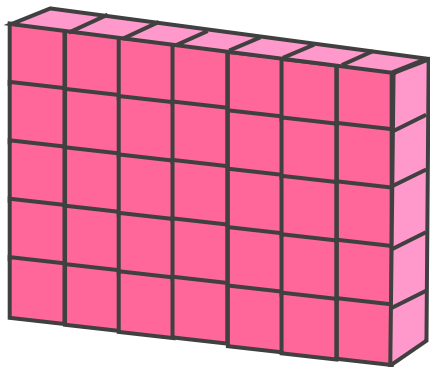
② ㊦のテープの長さをはかると、3cmでした。

①でぬったところの長さは何cmですか。

しき： $3 \times 7 = 21$

答え：21cm

2 下のつみきの数をもとめるかけ算のしきを2つ書きましょう。



しき： $(5 \times 7)$   $(7 \times 5)$

