



長さのたんい 5




● ミリメートル

日にち： 月 日

名まえ _____


1 ^{せん}線の ^{なが}長さは ^{なん}何 ^{なん}cm何mm でしょう。

①



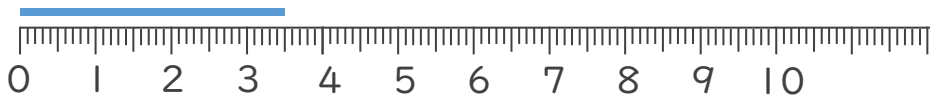
こた 答え ()

②



こた 答え ()

③



こた 答え ()

2 ^{せん}線の ^{なが}長さをものさしではかりましょう。

①



こた 答え ()

②



こた 答え ()





長さのたんい 5

● ミリメートル




日にち： 月 日

名まえ _____


1 線の長さは何cm何mmでしょう。

①



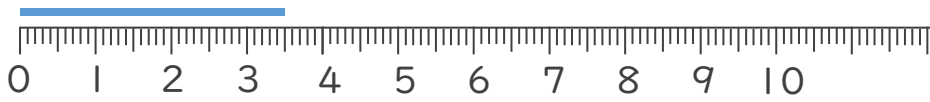
こた 答え (3 cm 6 mm)

②



こた 答え (4 cm 3 mm)

③



こた 答え (3 cm 5 mm)

2 線の長さをものさしではかりましょう。

①



こた 答え (8 cm)

②



こた 答え (4 cm)

