



長さのたんい 5 
● ミリメートル

日にち： 月 日

名まえ _____

1 ^{せん} ^{なが} ^{なん} ^{なん}
線の長さは 何cm何mm でしょう。



^{こた}
答え ()



^{こた}
答え ()



^{こた}
答え ()

2 ^{せん} ^{なが}
線の長さをものさしではかりましょう。



^{こた}
答え ()



^{こた}
答え ()



長さのたんい 5

● ミリメートル




日にち： 月 日

名まえ _____


1 ^{せん}線の ^{なが}長さは ^{なん}何cm ^{なん}何mm でしょう。

①



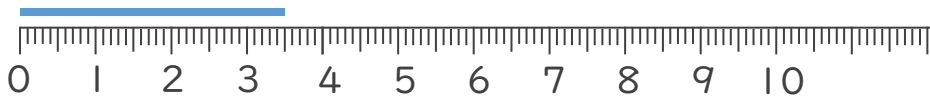
^{こた}答え (3 cm 6 mm)

②



^{こた}答え (4 cm 3 mm)

③



^{こた}答え (3 cm 5 mm)

2 ^{せん}線の ^{なが}長さをものさしではかりましょう。

①



^{こた}答え (8 cm)

②



^{こた}答え (4 cm)

