



水のかさ3

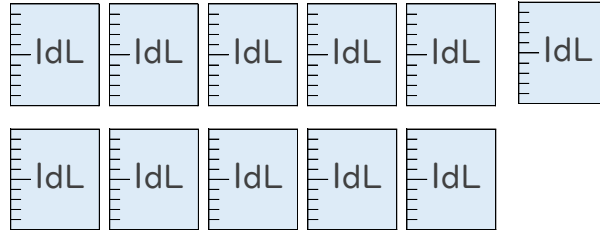
リットル



日にち： 月 日

名まえ _____

1 つぎのペットボトルに入る水のかさをしらべましょう。



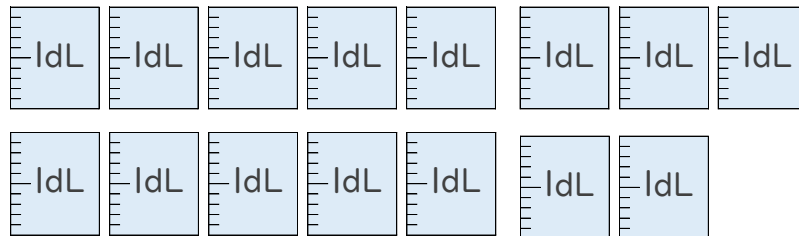
① ペットボトルに入る水のかさは、何dLですか。

答え： _____

② ペットボトルに入る水のかさは、何L何dLですか。

答え： _____

2 つぎのペットボトルに入る水のかさをしらべましょう。



① ペットボトルに入る水のかさは、何dLですか。

答え： _____

② ペットボトルに入る水のかさは、何L何dLですか。

答え： _____





水のかさ3

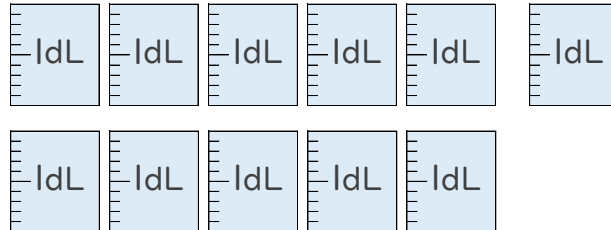
リットル



日にち： 月 日

名まえ _____

1 つぎのペットボトルに入る水のかさをしらべましょう。



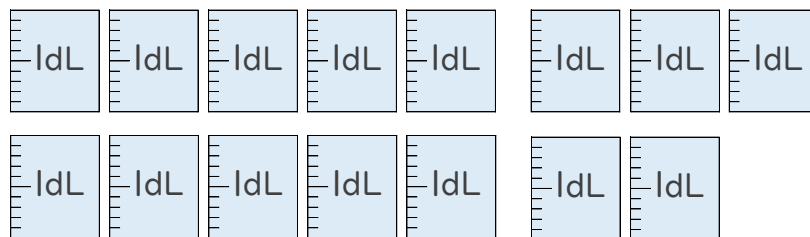
① ペットボトルに入る水のかさは、何dLですか。

答え： 11dL

② ペットボトルに入る水のかさは、何L何dLですか。

答え： 1L1dL

2 つぎのペットボトルに入る水のかさをしらべましょう。



① ペットボトルに入る水のかさは、何dLですか。

答え： 15dL

② ペットボトルに入る水のかさは、何L何dLですか。

答え： 1L5dL

