



かけ算 26

● リボンの2ばいの長さ

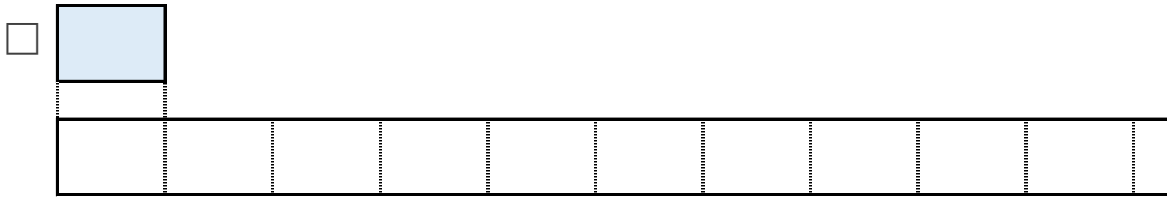


日にち： 月 日

名まえ _____

1 | ㉗のリボンの7ばいの長さを求めましょう。

① ㉗のリボンの7ばいの長さに色をぬりましょう。



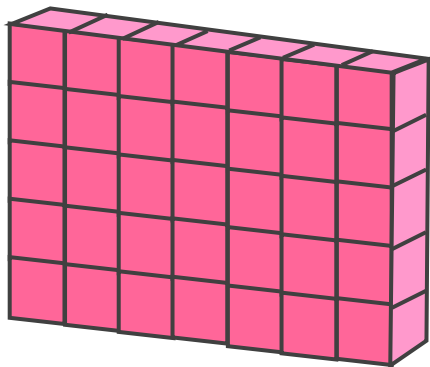
② ㉗のリボンの長さは、3cmです。

①でぬったところの長さは何cmですか。

しき：

答え： _____

2 下のつみきの数をもとめるかけ算のしきを2つ書きましょう。



しき： () ()



かけ算 26

● リボンの2ばいの長さ

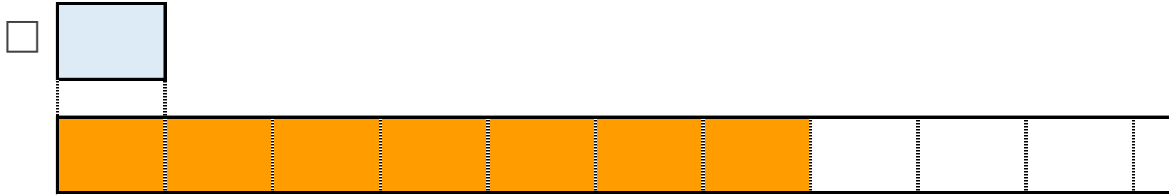
10

日にち： 月 日

名まえ _____

アのリボンの7ばいの長さをもとめましょう。

① アのリボンの7ばいの長さに色をぬりましょう。



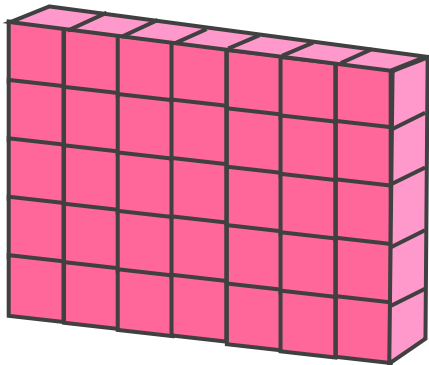
② アのリボンの長さは、3cmです。

①でぬったところの長さは何cmですか。

$$\text{しき： } 3 \times 7 = 21$$

答え： 21cm

2 下のつみきの数をもとめるかけ算のしきを2つ書きましょう。



$$\text{しき： } (5 \times 7) \quad (7 \times 5)$$

