



# 分数7

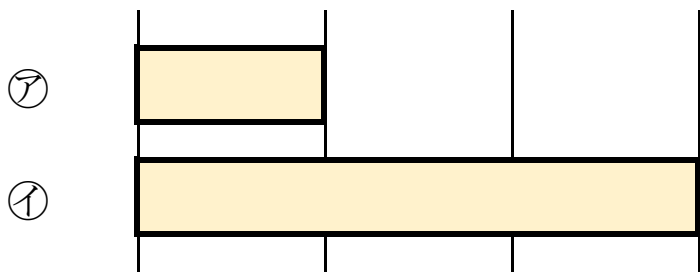
何倍？何分のー？



日にち： 月 日

名まえ

1 つぎの図を見てもんだいに答えましょう。



① 下の⑧のテープの長さは、⑦のテープの長さの何ばいですか。

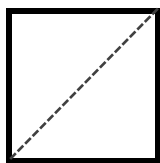
答え：

② 上の⑦のテープの長さは、⑧のテープの長さの何分のーですか。

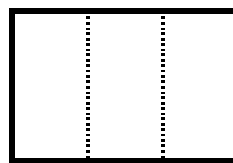
答え：

2 つぎの大きさに色をぬりましょう。


①  $\frac{1}{2}$



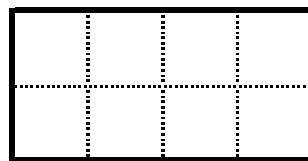
③  $\frac{1}{3}$



②  $\frac{1}{4}$



④  $\frac{1}{8}$





# 分数7

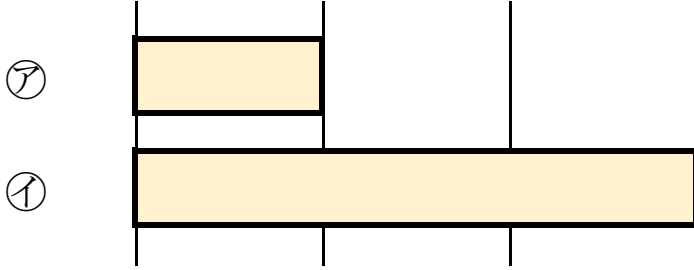
何倍？何分の一？



日にち： 月 日

名まえ

1 つぎの図を見てもんだいに答えましょう。



① 下の①のテープの長さは、⑦のテープの長さの何ばいですか。

答え： 3 ばい

② 上の⑦のテープの長さは、①のテープの長さの何分の一ですか。

答え：  $\frac{1}{3}$

2 つぎの大きさに色をぬりましょう。

