



長さのたんい 8

◎ 直線の長さをはかる (mm)



日にち： 月 日

名まえ _____

1 ^{せん}線の ^{なが}長さをものさしではかりましょう。

①



^{こた}答え ()

②



^{こた}答え ()

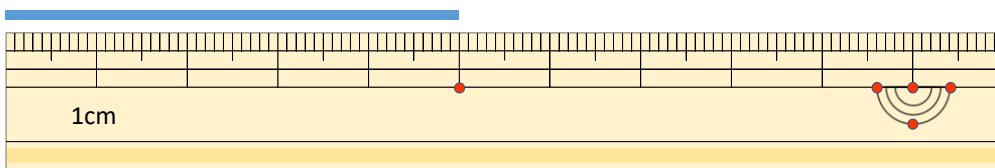
③



^{こた}答え ()

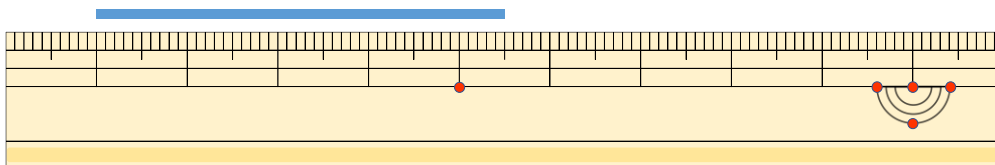
2 ^{せん}線の ^{なが}長さはどれだけですか。

①



答え ()

②



^{こた}答え ()





長さのたんい 8

◎ 直線の長さをはかる (mm)



日にち： 月 日

名まえ _____

1 ^{せん}線の ^{なが}長さをものさしではかりましょう。

①



こた 答え (4 cm 5 mm)

②



こた 答え (4 cm)

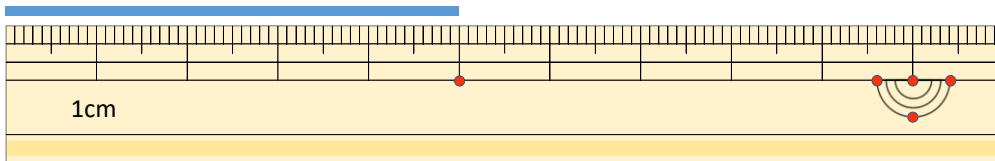
③



こた 答え (5 cm 8 mm)

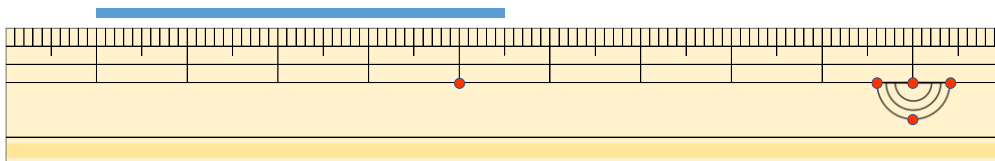
2 ^{せん}線の ^{なが}長さはどれだけですか。

①



こた 答え (5 cm)

②



こた 答え (4 cm 5 mm)

