



# 長さのたんい 8

◎ 直線の長さをはかる (mm)



日にち：            月            日

名まえ \_\_\_\_\_

1 <sup>せん</sup>線の <sup>なが</sup>長さをものさしではかりましょう。

①



<sup>こた</sup>答え (            )

②



<sup>こた</sup>答え (            )

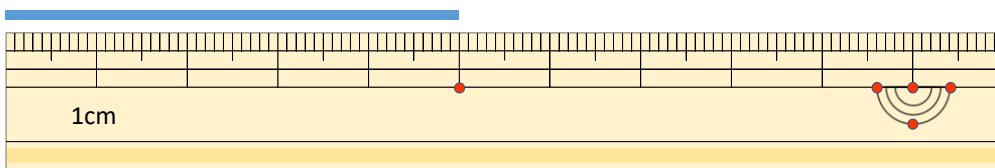
③



<sup>こた</sup>答え (            )

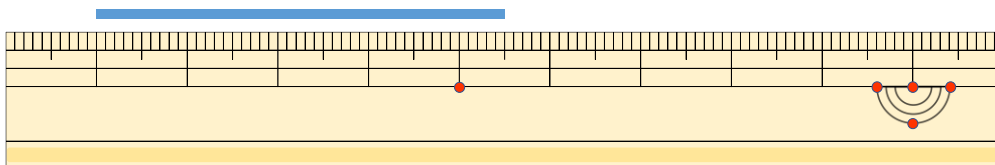
2 <sup>せん</sup>線の <sup>なが</sup>長さはどれだけですか。

①



<sup>こた</sup>答え (            )

②



<sup>こた</sup>答え (            )





# 長さのたんい 8

◎ 直線の長さをはかる (mm)



日にち：            月            日

名まえ \_\_\_\_\_

1 <sup>せん</sup> <sup>なが</sup> 線の長さをものさしではかりましょう。

①



こた 答え ( 4 cm 5 mm )

②



こた 答え ( 4 cm )

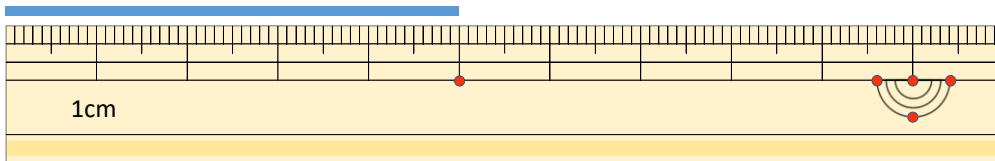
③



こた 答え ( 5 cm 8 mm )

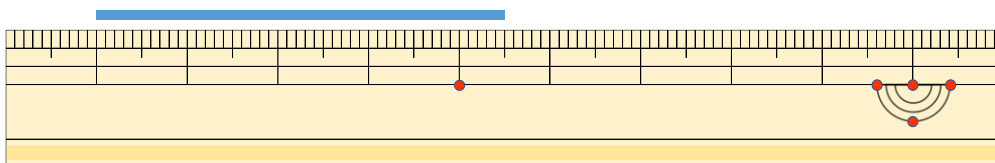
2 <sup>せん</sup> <sup>なが</sup> 線の長さはどれだけですか。

①



こた 答え ( 5 cm )

②



こた 答え ( 4 cm 5 mm )

