

分数 2

色をぬった部分は何分の一？

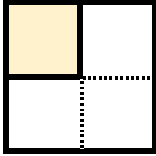


日にち： 月 日

名まえ _____

・色をぬったぶんはもとの大きさの何分の一ですか。

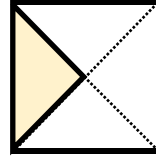
①



答え：


$$\frac{1}{4}$$

④



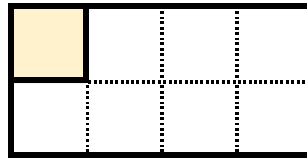
答え：

②



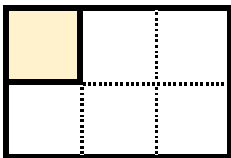
答え：

⑤



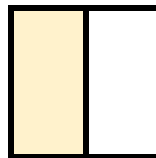
答え：

③




答え：

⑥



答え：



分数 2

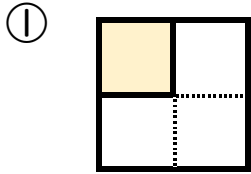
色をぬった部分は何分の一？



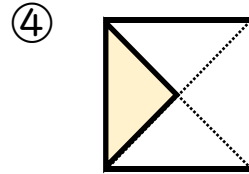
日にち： 月 日

名まえ _____

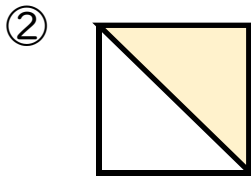
・色をぬったぶんはもとの大きさの何分の一ですか。



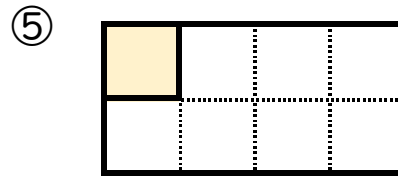
答え： $\frac{1}{4}$



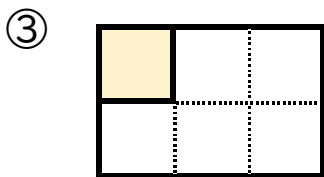
答え： $\frac{1}{4}$



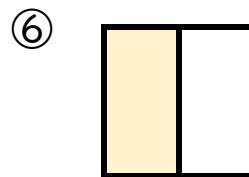
答え： $\frac{1}{2}$



答え： $\frac{1}{8}$



答え： $\frac{1}{6}$



答え： $\frac{1}{2}$